



# FƏNLƏR TOPLUSU

## ONLAYN SINAQ İMTAHANLARI

Ödənişsiz və ödənişli  
sınaq imtahanlarından istifadə  
etmək üçün QR kodu oxudun.



QR code reader



## Əziz dostum!

Yaşadığımız dünya demək olar ki, hər saniyə dəyişir. Elm və texnologiya durmadan inkişaf edir. Azərbaycanın dünyada güclü dövlətlərdən biri olması üçün biz də özümüzü inkişaf etdirməliyik.

Bu gün sən şagirdsən. Əsas vəzifən dərslərini yaxşı oxumaqdır. Unutma! Sən dərslərini nə qədər yaxşı oxusan, Azərbaycan bir o qədər güclü dövlət olacaq. Çünki Azərbaycanın gələcəyi sizlərsiniz!

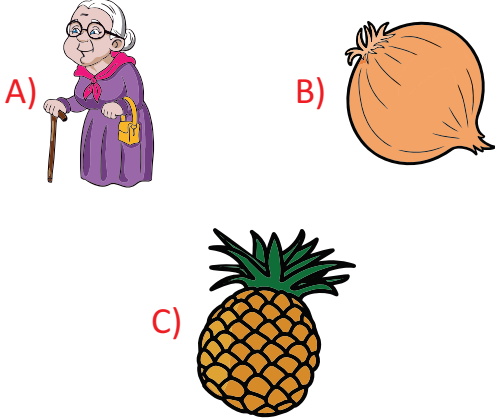
**Kamil MƏMMƏDOV**

# TESTLƏR

**YENİ NƏŞR**

Bakı - 2020

1. Adı [n] səsi ilə başlayan şəkli tapın.

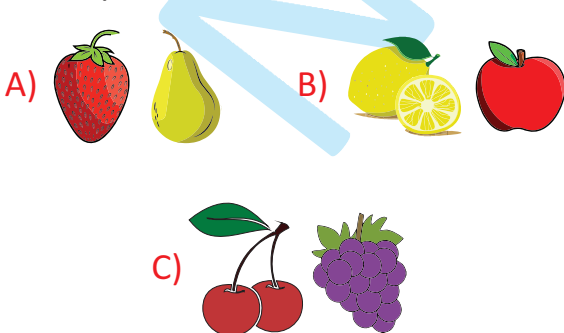


2. Hansı sözdə [a] səsi daha çoxdur?

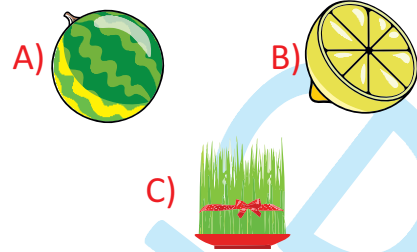


A) ata B) pozan C) siçan

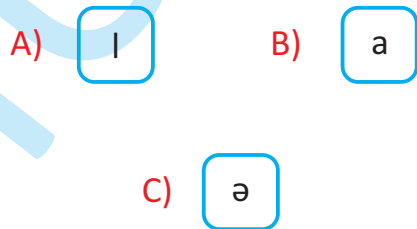
3. Adında [l] səsi olan meyvələri səbətə yığsaq, səbətdə hansı bənddəki meyvələr olacaq?



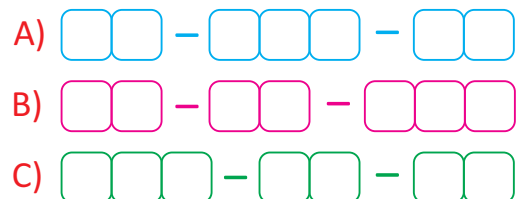
4.



5.




6.



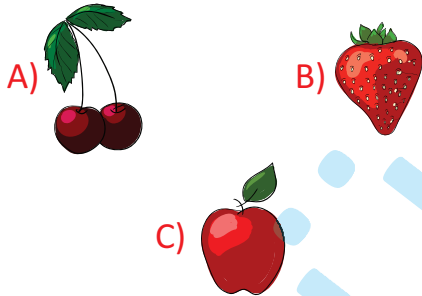

7.



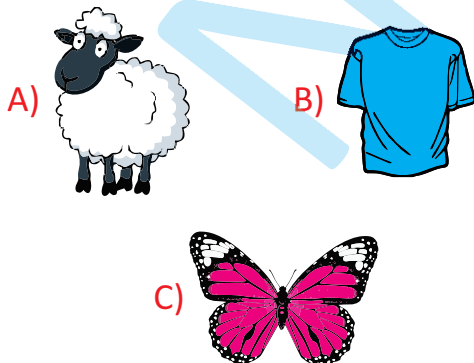
□ □ □ □ a □ □ □ a □ □ □ a □ □



8.



9. Hansı şəklın adında hecaların sayı daha çoxdur?




10. Hansı şəklın adı [n] səsi ilə bitir?



C)



11. Adında [ə] səsi olan əşyaları çantaya yığın (Oxlarla göstərin).




12. "A", "n", "ə", "l" hərflərindən istifadə etməklə sözlər düzəldib uyğun sütunlarda yazın.

2 hərflı sözlər	3 hərflı sözlər



1. Adları eyni səslə başlayan şəkillər hansı bənddə verilib?

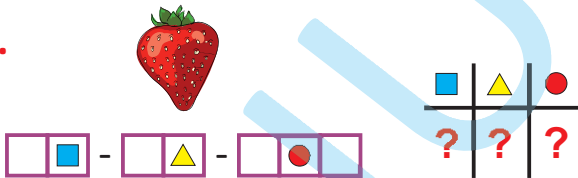


2. b a l  a




Boş xanaya hansı hərf yazılmalıdır?

A) **T** B) **B** C) **i**

3.






A) 

		
a	i	ə

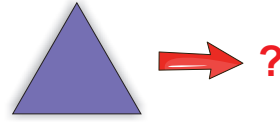
B) 

		
ə	ö	ü

C) 

		
i	ə	ə

4.



A) □ □ - □ □ - □ □ □

B) □ - □ □ - □ □

C) □ □ - □ □ - □ □

5. Tərkibində "m" samiti olan meyvə və tərəvəzləri səbətə yığsaq, səbətdə neçə ədəd meyvə olar?



A) 4 B) 2 C) 5

6. Fiqurları hansı ardıcılıqla düzsək, üzərindəki hərflərdən söz alınar?



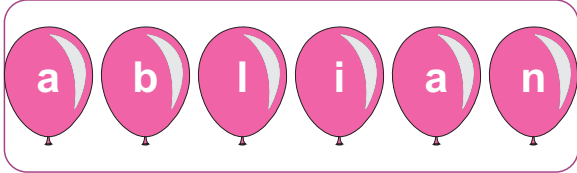
A) △ ☆ ○ □

B) ○ ☆ □ △

C) ☆ □ △ ○

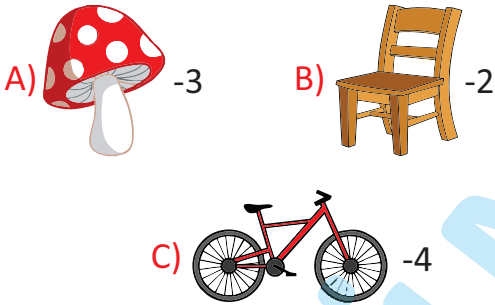


7. Şarların üzərində yazılmış hərflərdən hansı sözü düzəldə bilərik?



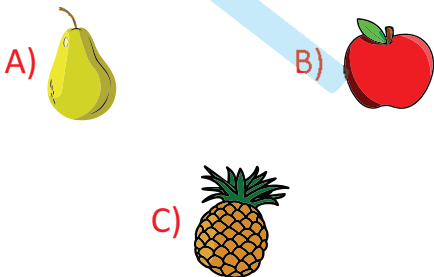
- A) balta B) balina  
C) liman

8. Hansı şəklin adındakı heca sayı düzgün göstərilməyib?

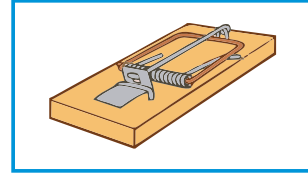


9. Verilmiş cümlədə hansı meyvənin adı çəkilib?

Əmi, mənə alma al.





10. Şəklin adında hansı səs təkrarlanır?




- A) [t] B) [ə]  
C) [l]

11. Şəkillərin adlarındakı hərflərdən öyrəndiklərinizi uyğun xanalara yazın.



-

-



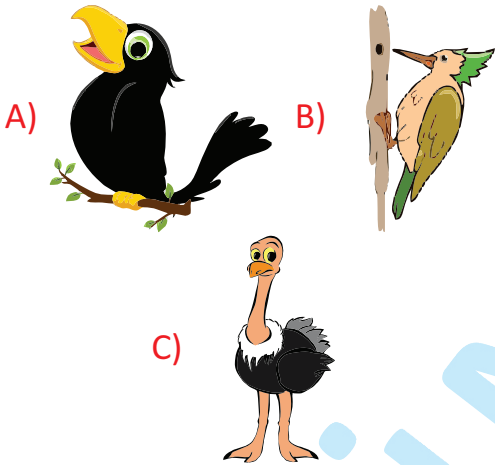
-

-

12. "Ə", "B", "T", "İ", "B" hərflərindən istifadə etməklə söz düzəldin.

*Meşədə tez-tez tıqqıltı səsi eşitmək olar. Bu, ağacdələnin səsidir. O, caynaqları ilə ağacdən bərk-bərk yapışır. Sonra dəmir kimi möhkəm dimdiyi ilə ağacın qabığını dəlir. Uzun, yapışqan dili ilə həşəratları oyuqdan çıxarır yeyir. Ağacdələn ziyanverici həşəratları məhv etməklə ağacları xəstəliklərdən qoruyur.*

1. Mətnədə hansı quşdan bəhs olunur?



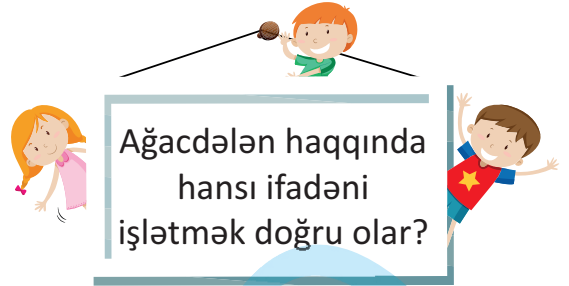
2. Ağacdələn ağaclardan necə yapışır?

A) dimdiyi ilə

B) qanadları ilə

C) caynaqları ilə

3.

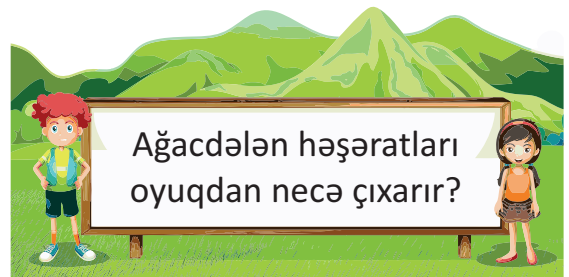


- A) meşənin həkimi
- B) yırtıcı quş
- C) ağacların düşməni

4. Ağacdələn nə üçün faydalı quş hesab olunur?

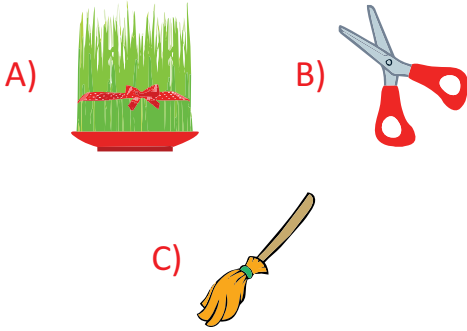
- A) Ziyanverici həşəratlardan ağacları qoruduğu üçün
- B) Ağacları dəldiyi üçün
- C) Meşədə tıqqıltı səsi yayaraq, ziyanverici həşəratları uzaqlaşdırdığı üçün

5.

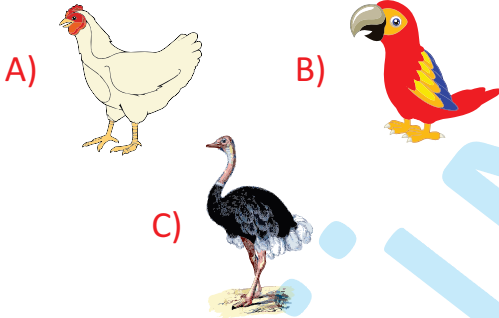


- A) Dəmir kimi möhkəm dimdiyi ilə
- B) İti caynaqları ilə
- C) Yapışqan dili ilə

1. Hansı şəkildəki əşyanın adı "s" hərfi ilə başlamır?



2. Hansı şəkildəki canlının adında [u] səsi daha çoxdur?



3. Şəkildəki canlının adını tapın.



- A) kərtənkələ  
B) ilan  
C) durna


4. ? - n a - n a s

- A) a B) i  
C) u

5. Hansı söz hecalara düzgün bölünüb?

- A) kit-ab B) du-man  
C) də-stə

6. Şəkildəki quşun adında verilməyən hərflər hansı bənddəki əşyanın adında var?




d ■ rn ■

- A)
- B)
- C)



1. Hansı hecalar birləşərək şəkildəki əşyanın adını əmələ gətirər?

1	2	3
kəl	ki	bə
4	5	6
ğan	tin	çə
7	8	9
ər	az	dan



- A) 1, 3, 5      B) 5, 6, 9  
C) 3, 4, 8

2. “Kiçik” sözünün yaxınmənalı qarşılığı hansı bənddə verilmişdir?

- A) böyük      B) nəhəng  
C) balaca

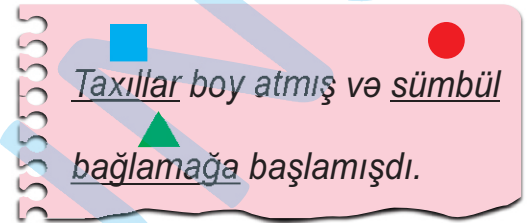
3. “Hər sənətin öz faydaları var.” cüm-ləsində altından xətt çəkilən sözü hansı sözlə əvəz etmək olar?

- A) peşənin      B) sənədin  
C) əyləncənin




4. Hansı bənddə nöqtələrin yerinə “Sərçə” sözü yazıla bilməz?

- A) ..... göyertəyə qonmuşdu.  
B) ..... məktəbə gedəcəyəm.  
C) ..... səsi ilə oyanırdım.

5.



Yuxarıdakı cümlədə hansı simvolla verilmiş söz səhv yazılıb?

- A)       B)   
C) 

6.

Aşağıdakı suallardan hansının birdən çox cavabı ola bilər?

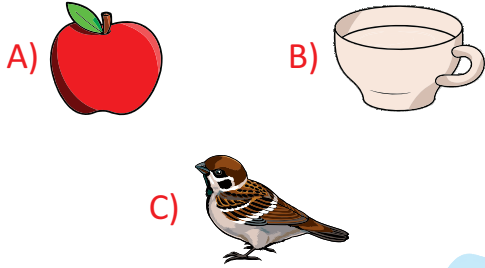


- A) Ən gözəl şəhərimiz haradır?  
B) Azərbaycanın paytaxtı haradır?  
C) Nailə neçənci ildə anadan olmuşdur?

1. Hansı cümlədə "etibar" sözü böyük hərflə yazılmalıdır?













- A) Atam mənə etibar edir.  
B) Mən də sirrimi dostuma etibar edirəm.  
C) Dostum etibar dərslərini yaxşı oxuyur.

2. Adında daha çox səs olan şəkil hansıdır?

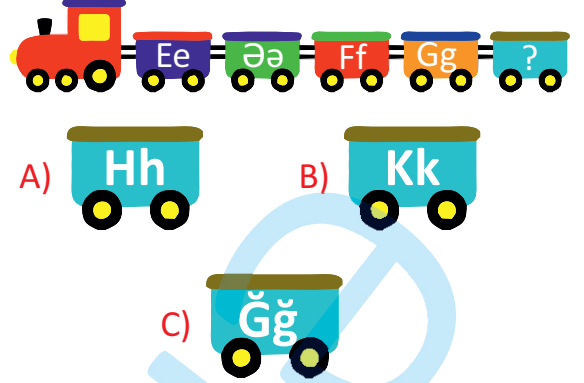


3. İşarələnmiş sözləri hansı ardıcılıqla yazsaq, atalar sözü alınar?


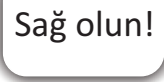

 **igid**  **adı**  
 **ölər**  **qalar**

- A)      
B)      
C)    


4. Məntiqi ardıcılığı davam etdirin.



5. "Xudahafız!" ifadəsini hansı ifadə ilə əvəz etmək olar?

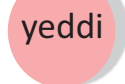


- A)  B)   
C) 

6.



*Dostlarımla imtahana getdim.*

Lalənin dediyi cümlə neçə hecadan ibarətdir?

- A)  B)   
C) 

1. 

Bunlar mənim  
toplarımdır.






Aydan



Tural

Mənim toplarım  
səninkilərdən azdır.

Aşağıdakılardan hansı Turalın top-  
larının sayı ola bilər?







- A)   
B)   
C) 

2. Aşağıdakı ifadələrdən hansılar  
doğrudur?

- 13 armud, 7 armuddan çoxdur.  
● 6 çiyələk, 17 çiyələkdən azdır.  
▲ 14 alma, 9 almada azdır.

- A) ■ ▲ B) ● ■ C) ● ▲

3.  ? ?

- A)    
B)    
C)  

4. Buludların sayı hansı qrupdakı  
həşəratların sayından azdır?



A)



B)



C)



5.


0, 1, 2, 3, 4, 5, 6, ?, ?

A) 8, 9

B) 7, 8

C) 7, 9

6.



Pişik harada yatıb?


A) Pəncərənin yanında

B) Kreslonun üzərində

C) Kreslonun altında



1. Ağacdakı meyvələrin sayını müqayisə etsək, hansı müqayisə doğru olar?



- A) > B) < C) =

2.

$$\begin{array}{cc} 6 + 3 & 4 - 3 \\ \downarrow & \downarrow \\ \square & \text{?} \square \end{array}$$

“?” olan yerə hansı müqayisə işarəsi qoyulmalıdır?

- A) < B) = C) >

3.



- A) > B) < C) =

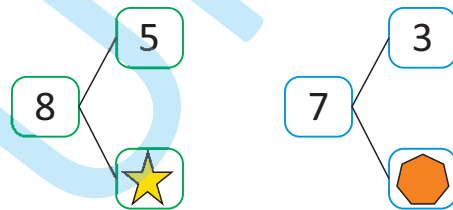
4.



Üçüncü canlıdan əvvəl və sonra hansı canlılar dayanıb?

- A) B) C)

5.



$$\star + \text{octagon} > \square$$

$$\square = ?$$

- A) 9 B) 7 C) 6

6.

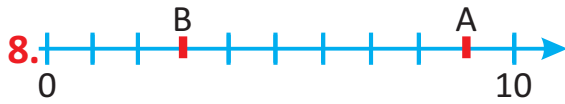


İkinci və dördüncü gülün üzərindəki ədədlərin cəmini tapın.

- A) 10 B) 8 C) 6

7. Boy sırasına görə Adildən əvvəl 7 nəfər var. Adil sırada neçəncidir?

- A) altıncı  
B) yeddinci  
C) səkkizinci



$$A - B < \star$$

$\star = ?$

- A) 5      B) 4      C) 7

9. Ən böyük birrəqəmli ədəd ilə on-dan öncəki ədədin müqayisəsi hansı bənddə düzgün verilib?

- A)  $8 > 7$       B)  $10 > 9$   
C)  $9 > 8$

10. Aşağıdakı məlumatlardan hansı 9 rəqəmi üçün doğrudur?

- A) 10-dan böyükdür.  
B) 8 ilə 10 arasındadır.  
C) 8-dən kiçikdir.




1-ci və 2-ci sıradakı şarların cəmini 3-cü sıradakı şarların sayı ilə müqayisə edin.

Həlli


12. Sıra saylarına beş nümunə yazın.

Həlli

sayı sayından neçə də-  
nə azdır?

- A) 2      B) 4      C) 6

2. Mənim 7 dəftərim, bacımın  
isə 4 dəftəri var. Mənim  
dəftərlərimin sayı, bacımın  
dəftərlərinin sayından neçə  
dənə çoxdur?



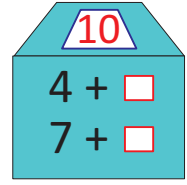
- A) 11      B) 7      C) 3

3. Verilən çıxma  
əməlinə azalan  
necə tapılır?

$$\square - 2 = 4$$

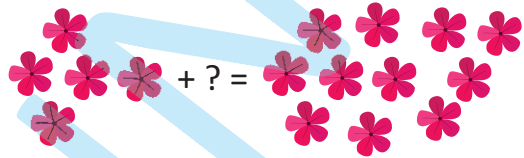
- A)  $6 - 2 = 4$       B)  $4 + 2 = 6$   
C)  $6 + 2 = 8$

4. Ədəd evində boş xana-  
lara uyğun rəqəmlərin  
cəmi neçədir?




- A) 8      B) 10      C) 9

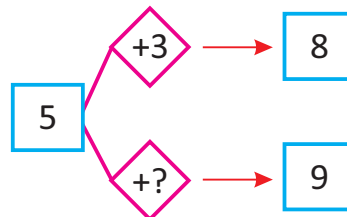
5.



Yuxarıda modellə göstərilən topla-  
ma əməlinə “?”-in yerinə hansı  
bənd uyğundur?



6.



- A) 2      B) 4      C) 5



7.

8 dəftər 5 dəftərdən ...  
dənə çoxdur.



- A) 4      B) 3      C) 2

8. 3-ün ikiqatından 3 vahid çox olan  
ədəd hansıdır?

- A) 6      B) 9      C) 10

9.

5 və 3-ün cəmi hansı  
ədədin iki qatıdır?



- A) 8      B) 4      C) 2

10.

$$A - 1 = 3 + 3 = B + 2 = 8$$

B-A=?

- A) 6      B) 2      C) 4

11. Uyğunluğu müəyyən edin.

3-dən 2 vahid  
böyük rəqəm

5

7-dən 4 vahid  
kiçik rəqəm

4

5 ilə 3 arasında  
yerləşən rəqəm

3

12.

qrafın

çaydan



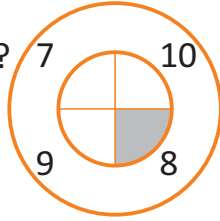
Tutumu: 4 stəkan

Tutumu: 2 qrafın

Şəkildəki məlumatlara görə çaydan  
neçə stəkan su tutur?

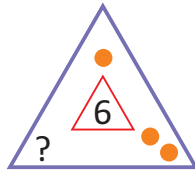
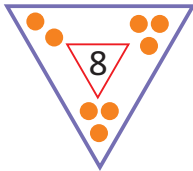
Həlli:


1. Rənglənmiş hissəyə uyğun ifadə hansıdır?




- A)  $9-3+2$     B)  $5+2+2$     C)  $10-6+3$

2. “?”-in yerində neçə dairə olmalıdır?



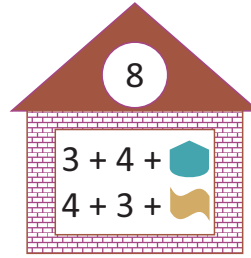
- A) 3    B) 5    C) 8

- 3.



- A) 0    B) 1    C) 2

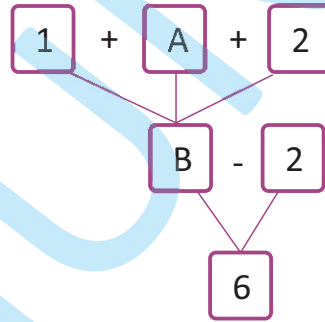
- 4.



+ = ?

- A) 3    B) 2    C) 1

- 5.



Verilənlərə əsasən A-nı tapın.

- A) 8    B) 3    C) 5

6. Uşaqlar cəmi neçə kitab aldılar?



Mən 3 kitab aldım.

Mən 4 kitab aldım.





Mən 2 kitab aldım.

- A) 7    B) 9    C) 10

1. Aşağıdakılardan hansı litrlə ölçülür?



2.  Atam şəkildəki qədər meyvə şirəsi aldı. Atam neçə litr meyvə şirəsi aldı?



A) 1 l      B) 2 l      C) 3 l

3. Bidonda 7 l su vardı. Ana bidondan bir qrafın su götürdü. Bidonda neçə litr su qaldı ?



A) 9 l      B) 5 l      C) 3 l

4. Sağıcı birinci inəkdən 3 l, ikincisindən isə bunun iki qatı qədər süd sağdı. Sağıcı 2 inəkdən cəmi nə qədər süd sağdı?



A) 6 l      B) 9 l      C) 8 l

5. Restoranda gün ərzində 8 şüşə yağ işləndi. Bunun 3 şüşəsi zeytun yağı qalanı isə günəbaxan yağıdır. Restoranda gün ərzində neçə litr günəbaxan yağı işləndi?



A) 3 l      B) 4 l      C) 5 l

6. İfadələrdən hansı doğrudur?

A)  $6 l + 3 l = 8 l$

B)  $8 l - 4 l = 4 l$

C)  $3 l + 3 l = 7 l$



7. Bağban gülləri sulayarkən 1-ci gün 2 l, 2-ci gün 3 l, 3-cü gün isə 5 l su istifadə etdi. Bağban 3 gündə cəmi neçə litr su istifadə etdi?

- A) 9 l      B) 10 l      C) 7 l

8. 2 stəkan 1 güldanı yarıya qədər doldurursa, 4 stəkan və 1 güldanın müqayisəsi haqqında hansı fikir söylənilməlidir?

- A) 4 stəkan daha çox su tutur.  
B) 1 güldan daha çox su tutur.  
C) 4 stəkan 1 güldan qədər su tutur.

9. Müqayisələrdən hansı doğrudur?


- A)  $6\text{ l} + 1\text{ l} > 2\text{ l} + 3\text{ l}$   
B)  $8\text{ l} - 4\text{ l} > 9\text{ l} - 2\text{ l}$   
C)  $7\text{ l} - 2\text{ l} = 3\text{ l} + 3\text{ l}$

10. Maye tutumu hansı ölçü vahidi ilə ölçülür?

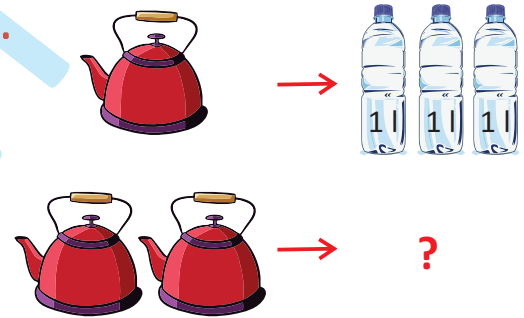
- A) kq      B) l      C) sm

11. Qazandakı 5 l suyun qaynadığı zaman 1 litri buxarlandı. 2 litr daha su əlavə etsək, qazanda neçə litr su olar?

Həlli:




12.




Şəklə əsasən 2 çaydanı doldurmaq üçün neçə litr su lazım olduğunu tapın.

Həlli:



1. Aşağıdakılardan hansı cansız varlıqdır?

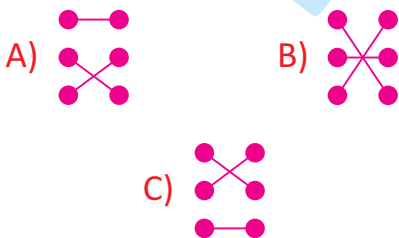
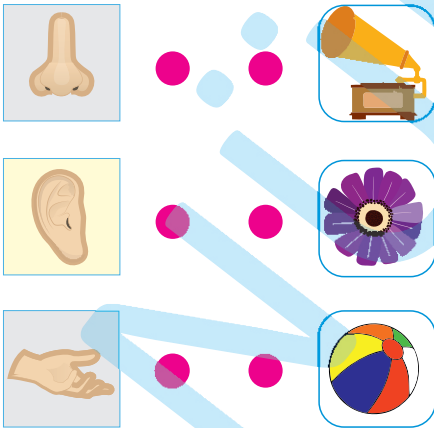


2. Hansı əlamətlər bütün canlılar üçün xarakterikdir?

1. Böyümək.
2. Çoxalmaq.
3. Hərəkət etmək.
4. Ünsiyyət qurmaq.

A) 1, 2 B) 3, 4 C) 1, 3

3. Uyğunluğu müəyyən edin.

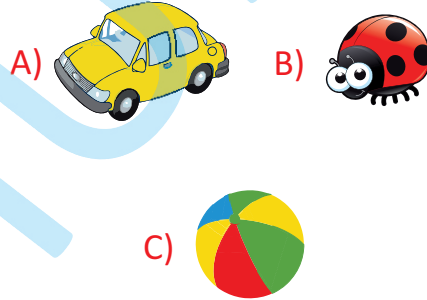


4. Ardıcılığı müəyyən edin.

gənc	qoca
ortayaşlı	körpə



5. Aşağıdakılardan hansı canlı varlıqdır?



6.




Şəkildəki canlılar üçün ortaq cəhət nədir?

A) Hərəkət etmək

B) Ünsiyyət qurmaq

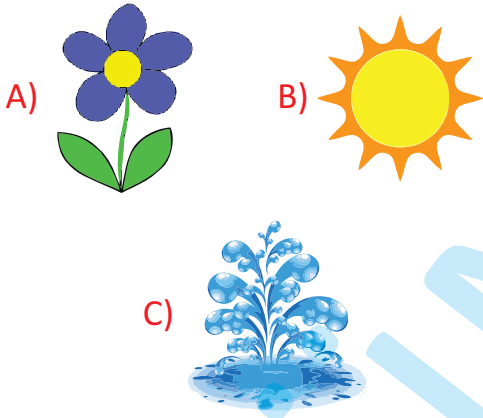
C) İnkişaf etmək

1. Hansılar kosmik varlıqlardır?



- A) B)   
C)

2. Canlıların yaşaması üçün işıq və istilik verən varlıq hansı bənddə düzgün təsvir edilmişdir?



3. Uyğunluğu müəyyən edin.

- 1) Bitkilər kökləri ilə məndən qida və su alır.
- 2) Mənsiz canlılar nəfəs ala bilməzlər.
- 3) Canlıların yaşaması üçün işıq və istilik verirəm.

a) Hava; b) Torpaq; c) Günəş

- A) 1-a, 2-b, 3-c  
B) 1-b, 2-a, 3-c  
C) 1-c, 2-b, 3-a

4. Nöqtələrin yerinə aşağıdakılardan hansı yazılmalıdır?  
“..... iki yüksəklik arasında yerləşən dərin, uzun çuxurdur.”

- A) düzənlik B) dərə  
C) meşə

5. Verilmiş şəkil haqqında hansı məlumat doğrudur?




- A) Hündür yerdir. Burada otlar və ağaclar bitir.  
B) Qumlu yerdir. Burada bitki azdır.  
C) Düz və hamar yerdir.

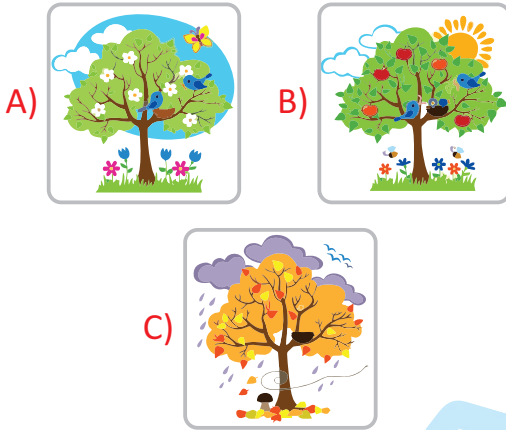
6. Çaylar və göllər arasındakı fərq nədir?

- A) Hər ikisi su sahəsidir.  
B) Çay axır, göl axmır.  
C) Göllər axır, çay axmır.

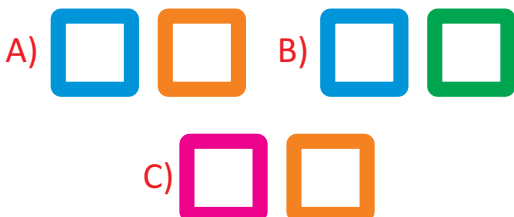
1. Yağış yağarkən günəş də çıxarsa, mən səmada görünürəm. Siz də mən nəyəm?



2. Hansı şəkil ən isti fəslə əks etdirir?



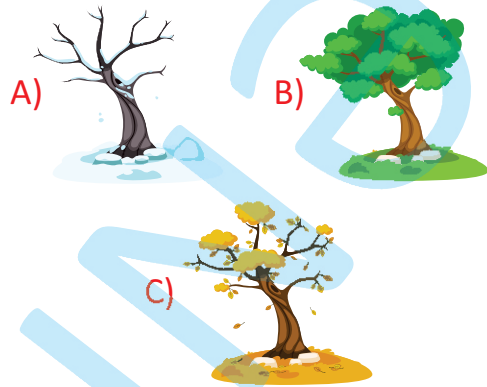
3. Cansız varlıqları seçin.



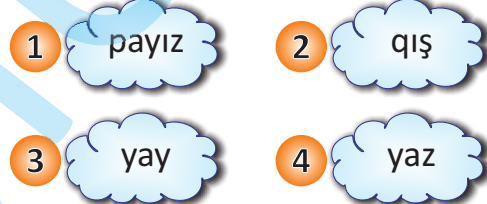
4. Məlumat hansı fəsil haqqındadır?



Havalar soyumağa başlayır, yağış yağır və yarpaqlar saralır.







5. Ardıcılığı müəyyən edin.



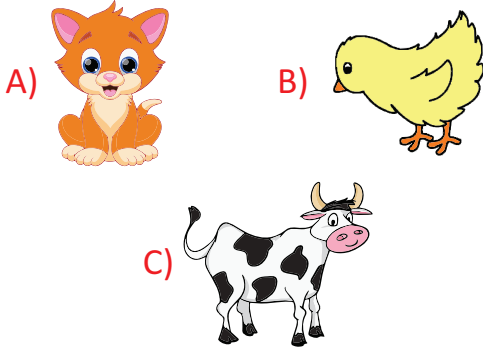
- A) 4, 3, 2, 1 B) 4, 3, 1, 2  
C) 1, 2, 4, 3

6. Cansız təbiətdə baş verən hadisələri seçin.

- 1  fəsillərin dəyişməsi  
2  ağacın yarpaqlaması  
3  qarın yağması  
4  insanın qidalanması

- A) 1, 2 B) 2, 4  
C) 1, 3

1. "Yumurtanın içində yaranır, tədricən böyüyür və yumurtanın qabığı-nı sındırıb çıxır." cümləsi aşağıdakılardan hansına aiddir?




2. "Gəlin, ümumi evimiz olan ..... təmiz saxlayaq." cümləsində nöqtələrin yerinə aşağıdakılardan hansı yazılmalıdır?

- A) küçəmizi  
B) Yer kürəsini  
C) məktəbimizi


3. Hansı məlumat doğrudur?

- A) Gülün solmağı cansız təbiət hadisəsidir.  
B) Təbiətdə canlılar bir-biri ilə qidalanır.  
C) Bütün canlı varlıqlar suda yaşayır.

4. Canlı təbiət hadisələrini seçin.






5. Verilmiş təsviri hansı cümlə ifadə edir?



- A) Canlılar bir-biri ilə qidalanır.  
B) Heç bir canlı böyümür.  
C) Bütün canlılar yaranır, böyüyür və qocalır.

6. Hansı şagirdin verdiyi məlumat doğrudur?


- A) Zavod və fabriklərdən havaya buraxılan zəhərli qazlar ağacların sayının artmasına səbəb olur. 
- B) Küçədə gəzərkən kağız, tum qabığı kimi tullantıları zibil qutusuna atmaliyiq. 
- C) Çirklənmiş meşədə rahatlıqla piknik etmək olar. 



1. Ən böyük əşya hansıdır?





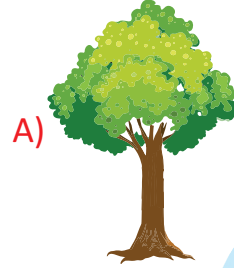
2. Aşağıdakılardan hansı ən kiçiydir?



3. Ən hündür bina aşağıdakılardan hansıdır?






4. Kötüyü daha qalın olan ağac hansıdır?

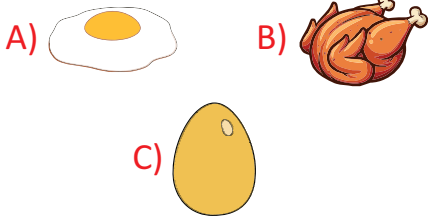


5.

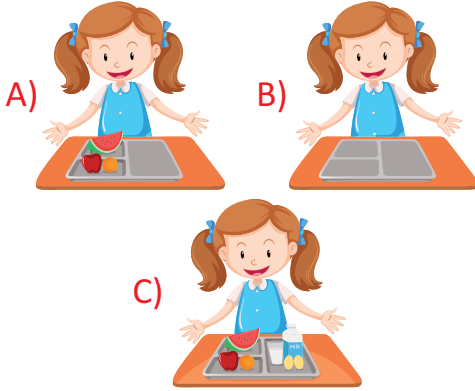
Hansı ağacda quş daha çoxdur?



1. Hansı şəkil daha əvvəlki vəziyyəti göstərir?



2. Hansı şəkil ən sondakı hadisəni göstərir?

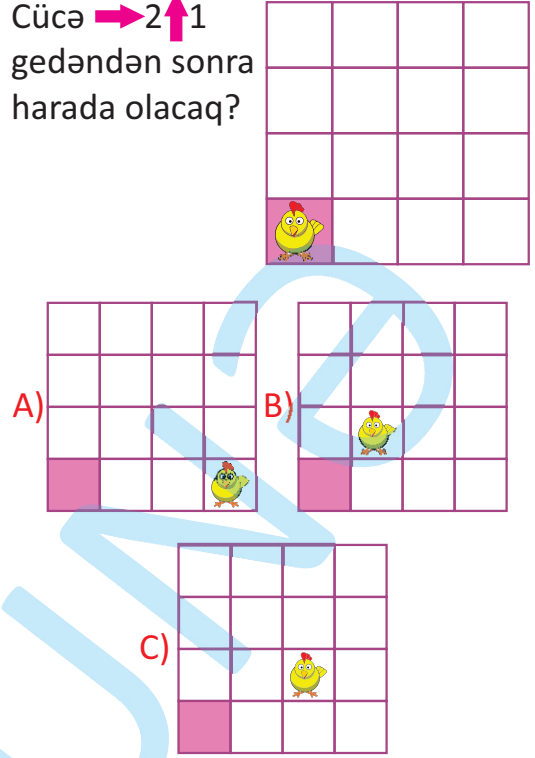


3. İkinci şəkildə birincidəkindən fərqli olan hal hansıdır?







- A) İşıqlar söndürülüb.  
B) Yatağın yanındakı pəncərə açılıb.  
C) Divardakı çərçivə əyilib.

4. Cücə →2↑1  
gedəndən sonra  
harada olacaq?




5. Boş çərçivədə neçə çiyələk olmalıdır?

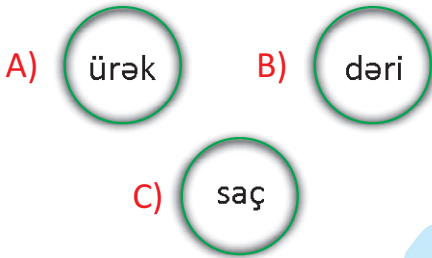


- A)  B) 
- C) 

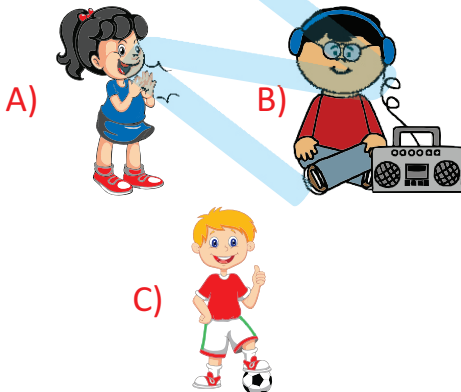
1. Hansı bənddə informasiya qoxulmaqla qəbul edilir?



2. Hansı duyğu üzvümüzdür?



3. Hansı şəkildə informasiya qəbul edilir?




4. Şəklə əsasən hansı məlumat doğrudur?



- A) Limon acıdır.  
B) Limon şirindir.  
C) Limon turşudur.

5. Aşağıdakılardan hansının dadına baxmaq olur?



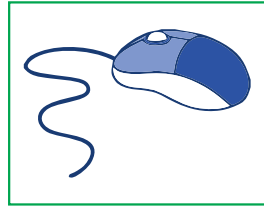

1. Kompüter vasitəsi ilə hansı işi görmək olmaz?

A) musiqiyə qulaq asmaq

B) şəkil çəkmək

C) tort yemək

2. İki şəkil üçün oxşar cəhət nədir?

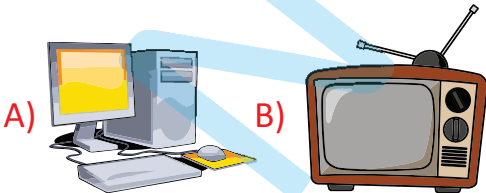


A) idarə etmək


B) yazmaq

C) şəkil göstərmək

3. Kompüter hansıdır?



B)



C)



4. Mətni kompüterə daxil etmək üçün hansı qurğudan istifadə olunur?

A) prosessor

B) siçan

C) klaviatura

5.

Hansı cihaz elektriklə işləyir?



A)



B)



C)

