



FƏNLƏR TOPLUSU

ONLAYN SINAQ İMTAHANLARI

Ödənişsiz və ödənişli
sınaq imtahanlarından istifadə
etmək üçün QR kodu oxudun.



QR code reader



Əziz dostum!

Yaşadığımız dünya demək olar ki, hər saniyə dəyişir. Elm və texnologiya durmadan inkişaf edir. Azərbaycanın dünyada güclü dövlətlərdən biri olması üçün biz də özümüzü inkişaf etdirməliyik.

Bu gün sən şagirdsən. Əsas vəzifən dərslərini yaxşı oxumaqdır. Unutma! Sən dərslərini nə qədər yaxşı oxusan, Azərbaycan bir o qədər güclü dövlət olacaq. Çünki Azərbaycanın gələcəyi sizlərsiniz!

Kamil MƏMMƏDOV

TESTLƏR

YENİ NƏŞR

Bakı - 2020

1. Verilmiş şəklin adındakı hərf tərkibindən istifadə etməklə hansı şəklin adını yazmaq olmaz?



- A) B) C) D)

2. Hansı sırada nöqtələrin yerinə eyni hərf yazılmalıdır?

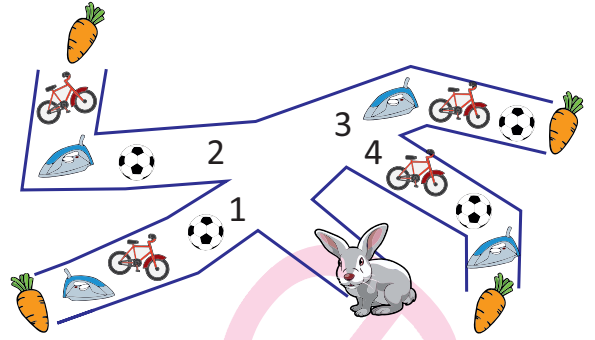
- A) k...nfet, cor...b, bost...n
B) ma...ak, qa...ğı, dün...a
C) ağa..., idman...ı, çəki...
D) nəhən..., za...an, sək...iz

3. Dilimizdə hansı hərflərlə başlayan söz yoxdur?



- A) B) C) D)

- 4.



Dovşan yerkökünü yeyə bilmək üçün şəkillərin əlifba sırası ilə düzldüyü yoldan getməlidir. Bunun üçün dovşan hansı yolu seçməlidir?

- A) 1 B) 2 C) 3 D) 4

- 5.

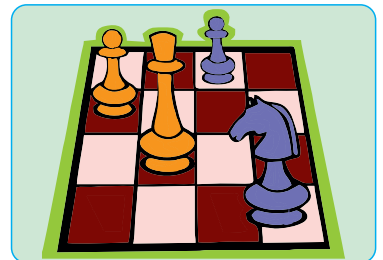


Səsləri ...

- A) oxuyur və yazır
B) deyir və eşidir
C) deyir və yazır
D) oxuyur və eşidir

6. Şekli verilmiş oyunun adını hansı səslə tamamlamaq lazımdır?

- A)d
B)t
C)r
D)h

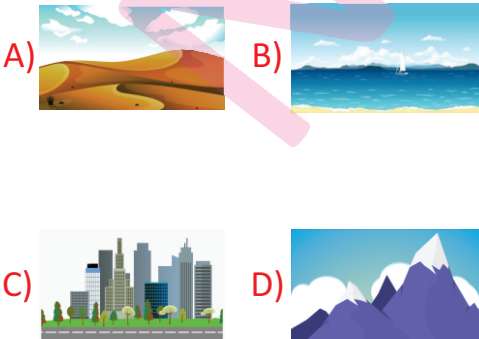


Artıq bahar fəslı gəlmişdi. Qaranquş qanad çalıb havaya qalxdı. O səhranın üstü ilə xeyli uçdu. Dağların üstündən keçdi. Şəhərlərin üstü ilə qanad çalıb havada süzdü. Nəhayət, qaranquş bir kəndə gəlib çatdı. Burada qurub yaşamağa başladı.

1. Mətnə əsasən hansı nəticəni çıxarmaq olar?

- A) Qaranquş sürətlə uça bilir.
- B) Qaranquş köçəri quşdur.
- C) Qaranquş həşəratlarla qidalanır.
- D) Qaranquş digər quşların yuvalarında yaşayır.

2. Qaranquş kəndə gəlib çatana kimi hansı ərazidən keçməmişdir?



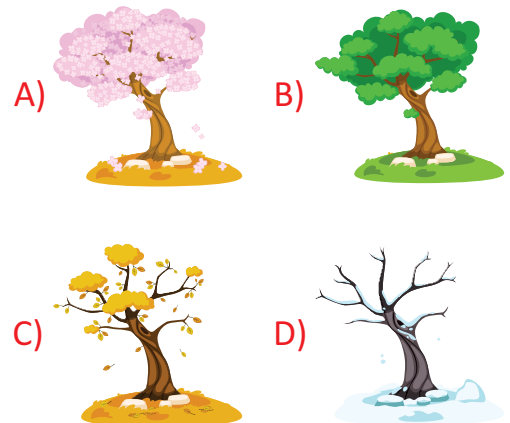
3. Boşluğa hansı söz uyğun gəlir?

- A) bina
- B) oyun
- C) yuva
- D) meşə

4. Mətnə necə ad vermək olar?

- A) Bahar fəslı
- B) Səhralar
- C) Quşlar aləmi
- D) Köçəri quş


5. Hadisə hansı fəsildə baş verib?



1. Samit səslərlə bağlı **səhv** fikri seçin.

- A) Ağız boşluğunda maneələrə rast gəlir.
- B) Samit səslər kar və cingiltili səslərə bölünür.
- C) Samit səsləri asanlıqla uzatmaq olur.
- D) Samitlərin sayı saitlərin sayından çoxdur.

2. Aşağıdakı şəkillərdən hansıların adı samitlə başlayır?



- A) ■ ● B) ■ ★ C) ▲ ★ D) ▲ ●


3. Aşağıdakı sözlərdən hansı samitlə başlayıb saitlə qurtarır?

- A) geniş B) dalğa
- C) ordu D) insan

4. Hansı sözdə saitlər samitlərdən çoxdur?

- A) qarğıdalı B) iyirmi
- C) iradəli D) dalgıç


5. Hansı şəklın adının yazılışında iki eyni samit işlənir?



6. Hansı bənddə "saksafon" sözündəki samitlərin əlifbadakı adları düzgün verilib?

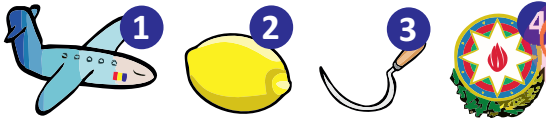
- A) es, ka, es, ef, en
- B) se, ka, se, fe, en
- C) se, ka, se, ef, en
- D) se, ke, se, ef, en

1. Şəkillərin hamısının adı üçün ümumi olan cəhət hansıdır?



- A) Deyilişi ilə yazılışı fərqlənir.
B) Təkhəcalı sözlərdir.
C) Sətirdən-sətrə keçirmək olmur.
D) Saitlərin sayı samitlərin sayından çoxdur.

2. Verilmiş varlıqlardan hansıların adını sətirdən-sətrə keçirmək olar?



- A) 1, 2 B) 2, 3
C) 3, 4 D) 1, 4

3. Hansı sözlər hecalara ayrıla bilir, lakin sətirdən-sətrə keçirilə bilmir?

A) ürək, ailə B) dəmir, payız

C) daş, mərd D) iki, məktəb

4. Kimin yazdığı cümlədə sətirdən-sətrə **səhv** keçirilmiş söz var?

A) Uşaqlar kitabxanaya getdilər.

B) Kitabxanaçı kitabları səliqəyə saldı.

C) O, oxumaq istədiyi kitabları tapdı.


D) O, kitablarını bizə etibar etdi.

5. Sözlərin mənalərini göstərən lüğət necə adlanır?

A) Orfoqrafik B) Orfoepik

C) İzahlı D) Antonimlər lüğəti



6. Əlifba sırasına görə sual işarəsinin yerinə hansı şəkil uyğun gəlir?



A) B)

C) D)

7. Hansı canlının adı lüğətdə daha öndə gəlir?



8. Verilmiş şəklın adı lüğətdə hansı sözlər arasında yerləşə bilər?



A) qonaq, qorxaq

B) qayıq, qaşiq

C) qoruq, qovaq

D) qapaq, qovun

9. Hansı atalar sözündəki bütün sözləri sətirdən-sətrə keçirmək olar?

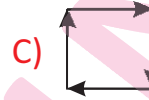
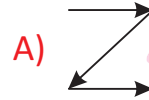

A) İgid ölər, adı qalar.

B) Kitab bilik mənbəyidir.

C) Yaman günün ömrü az olar.

D) Düz söz üz ağardar.

10. Şəkillərin adları lüğətdə hansı ardıcılıqda verilir?



11. Sözlərin düzgün sətirdən-sətrə keçirilmə variantlarını yazın.

keçibuyunuz- _____

şairanə- _____

qabiliyyətli- _____

elmsiz- _____

üfüq- _____

12. Uyğunluğu müəyyən edin.

Kolleksiya

İzahlı lüğət

[rütu:bətdi]

Orfoepiya
lüğəti

Süddən hazırlanan məhsul

Orfoqrafiya
lüğəti

Pəncərəyə dəyən yağış səsinə kiçik bir sərçənin qanad səsləri də qarışırdı. Kiçik qardaş dedi:

— Həm islanıb, həm də üşüyüb.

Pəncərəni açıb kiçik əlləri ilə sərçəni tutmaq və oxşamaq istədi. Lakin pəncərəni açmağa boyu çatmadı. Bacısını çağırdı. Uşaqlar sərçəni tutmaq və onunla dost olmaq istədilər. Pəncərəni tam açmışdılar ki, kiçik sərçə “pırrr” deyərək uçub getdi. Kədərli və təəccüblü baxışlarla onu izlədilər.

Kiçik qardaş:

— Biz onu soyuqdan qorumaq üçün tutmaq istədik.

Bacısı:

— Mənim əziz qardaşım, heç o öz yuvasını atıb bizə əsir olarmı?!

1. Mətdən hansı sualın cavabını tapmaq mümkün deyil?

A) Uşaqlar sərçəni nə üçün tutmaq istədilər?

B) Uşaqlar nə üçün kədərlənmişdilər?

C) Kiçik qardaş nə üçün bacısını çağırdı?

D) Bacısı nə üçün sərçəni tutmağa razı olmadı?

2. Mətdə altından xətt çəkilmiş cümlədə aşağıda verilənlərdən hansının vacibliyindən söhbət gedir?

A) cəsarətin

B) sevginin

C) qardaşlığın

D) azadlığın

3. Mətnə uyğun atalar sözlərini seçin.

A) Əmək insanı ucaldır.

B) Qürbət cənnət olsa da, yenə vətən yaxşıdır.

C) Doğru söz acı olar.

D) Od yanmasa, tüstü çıxmaz.

4. Mətdə fərqləndirilmiş söz hansı bənddəki cümlədə eyni mənada işlənmişdir?


A) Güclü külək əsir.

B) Üç əsrlik tarixi olan bina yenidən bərpa olundu.

C) Dərvişin əlləri yarpaq kimi əsirdi.

D) Əsirlər vətənlərinə döndülər.

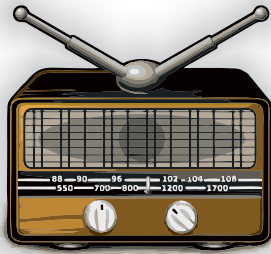
5. Mətnə uyğun şəkli seçin.



7. Hansı sözün yazılışında iki səhvə yol verilib?

- A) müdafiyyə B) velasipet
C) sənətgər D) bitgi

8. Verilmiş şəklın adı hansı bənddə düzgün yazılıb ?



- A) radiyo B) rodio
C) radyo D) radio

9. Hansı sözün deyilişi ilə yazılışı fərqlidir?

- A) qatarlar B) evlər
C) nağıllar D) balalar

10. Hansı söz yazıldığı kimi oxunmur?

- A) növbə B) döngə
C) dözüm D) nökr

11. Cədvəli tamamlayın.

Sözlərin deyilişi	Sözlərin yazılışı
[aşix]	
	dərdli
	ixtiyari
[kimyəvi]	
[manatdix]	

12. Buraxılmış hərfləri tamamlayın.



1139-cu ildə baş verən güclü zəlzələdən Kəpəz dağının bir hissəsi uçaraq Ağsu çayının qarşısını kəsib. Bunun nəticəsində çoxlu göllər əmələ gəlib. Bunlardan ən böyükü Göygöldür. Göygöl eyni zamanda Azərbaycanın ən dərin gölüdür. O, dəniz səviyyəsindən 1576 metr hündürlükdə yerləşir, dərinliyi 96 metrdir. Göygöl və onun ətrafı dövlət qoruğuna daxil edilmişdir. Göygöl Dövlət Təbiət Qoruğu Azərbaycanda yaradılmış ilk qoruqdur. Burada forel balıqları yaşayır. Göygölün ətrafı meşələrlə əhatə olunub. Bu meşələrdə müxtəlif heyvanlar yaşayır. Göygöl Azərbaycanın ən gözəl guşələrindən biridir. Hazırda Göygöl Milli Park kimi istifadə olunur.

1. Aşağıdakılardan hansının adı mətnə çəkilir?

- A) Göygöl ətrafındakı meşələrin
- B) Göygöl ətrafındakı meşələrdə yaşayan canlıların
- C) Göygöldə yaşayan balıqların
- D) Zəlzələ nəticəsində Göygöldən başqa əmələ gələn göllərin

2. Göygöl haqqında verilmiş "ən"-lərdən hansı doğru deyil?

- A) Azərbaycanın ən dərin gölüdür.
- B) Kəpəz dağının uçması zamanı yaranmış ən böyük göldür.
- C) Azərbaycanda ən birinci bu ərazidə qoruq yaradılmışdır.
- D) Azərbaycanın ən gözəl guşəsidir.

3. Mətnə hansı sualın cavabı yoxdur?

- A) Göygöl dəniz səviyyəsindən nə qədər yüksəklikdə yerləşir?
- B) Gəncədə baş vermiş zəlzələ neçə bal gücündə idi?
- C) 1139-cu ildə baş vermiş zəlzələnin nəticəsi necə oldu?
- D) Kəpəz dağı uçması nəticəsində nə baş verdi?

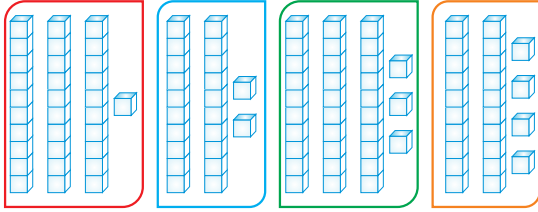
4. Mətnə hansı mövzuya toxunulmayıb?

- A) Göygölün ətrafında meşələr olduğuna
- B) Göygölün suyunun təmizliyinə
- C) Göygölün əmələgəlmə tarixinə
- D) Göygölün dövlət qoruğu olmasına

5. Mətnə hansı rəngdə verilmiş söz düzgün yazılmayıb?

- A) göy
- B) qırmızı
- C) yaşıl
- D) bənövşəyi

1. Modellə verilmiş ədədlərin böyükdən kiçiyə düzülüşü hansı bənddə doğru verilmişdir?



- A) B)
C) D)

2. Hansı bənddəki ədədləri boş xanaya yazı bilərik?

$$35 < \square < 48$$

- A) 35, 43 B) 39, 41
C) 33, 50 D) 37, 48

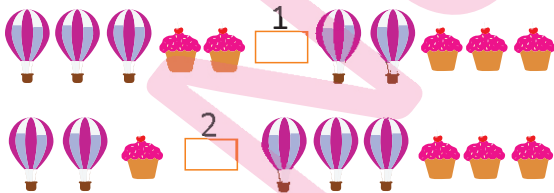
3. Nömrələnmiş xanalara hansı müqayisə işarəsi yazılmalıdır?



= təklük



= onluq

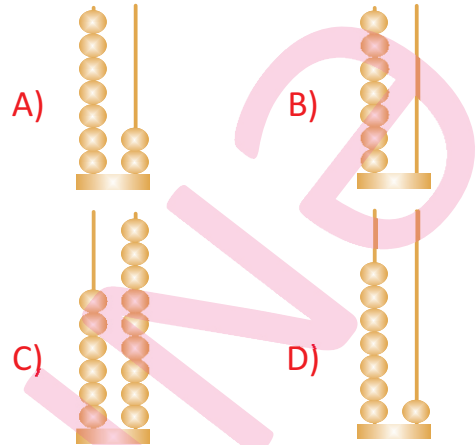


- A) $\begin{matrix} 1 & 2 \\ > & = \end{matrix}$ B) $\begin{matrix} 1 & 2 \\ > & < \end{matrix}$
C) $\begin{matrix} 1 & 2 \\ = & > \end{matrix}$ D) $\begin{matrix} 1 & 2 \\ = & < \end{matrix}$

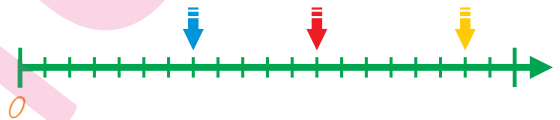
4.



Ədəd oxunda A və B ədədləri arasındakı ən böyük tək ədəd hansıdır?

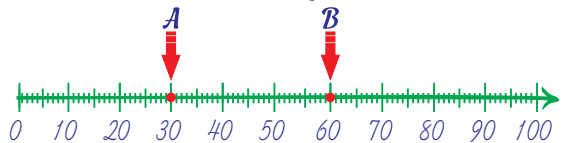


5. Ədəd oxu üzərində oxlarla işarələnmiş ədədləri müəyyən edin.



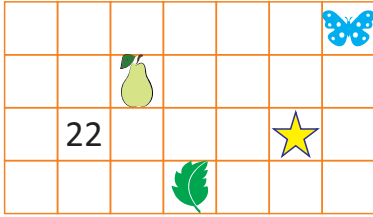
- A) $\downarrow -17$ $\downarrow -13$ $\downarrow -18$
B) $\downarrow -7$ $\downarrow -12$ $\downarrow -18$
C) $\downarrow -18$ $\downarrow -13$ $\downarrow -19$
D) $\downarrow -8$ $\downarrow -12$ $\downarrow -19$

6. Hansı bənddə ədəd oxu üzərindəki A və B ədədləri arasında yerləşən cüt ədədlər verilmişdir?



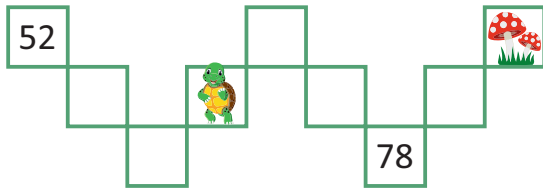
- A) 28, 56 B) 37, 49 C) 42, 54 D) 34, 45

7. 34 ədədi 100-lük kvadratda hansı şəklə uyğun gəlir?



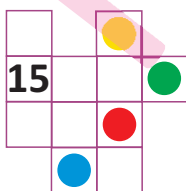
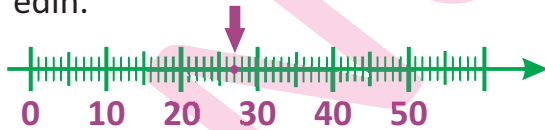
- A) ★ B) 🍐 C) 🌿 D) 🦋

8. 100-lük kvadratda 🍄 və 🐢 şəkillərinin olduğu xanalara uyğun gələn ədədləri tapın.



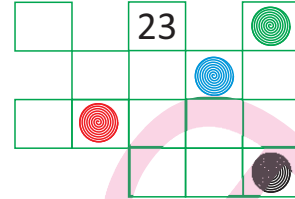
- A) 🐢 🍄
75 60
C) 🐢 🍄
65 70
B) 🐢 🍄
56 59
D) 🐢 🍄
65 60

9. Ədəd oxunda göstərilmiş ədədin 100-lük kvadratda yerini müəyyən edin.



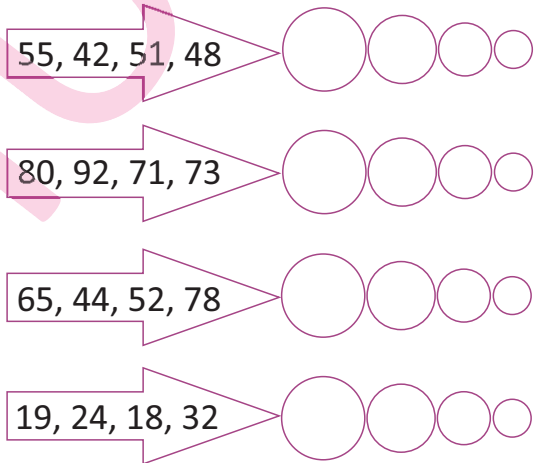
- A) ● B) ● C) ● D) ●

10. 100-lük kvadratda göstərilmiş ədədlər hansı bənddə düzgün müqayisə olunub?



- A) ● > ● B) ● < ●
C) ● < ● D) ● > ●

11. Aşağıdakı ədədləri böyükdən kiçiyə doğru düzün.



12. Ədəd oxuna əsasən suallara cavab yazın.



Ədəd oxunda ən kiçik ədəd neçədir?

30-dan sonra hansı ədəd gəlir?

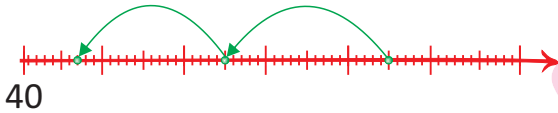
1. Müəllimin sualını hansı şagird doğru cavablandırıb?

Uşaqlar, 4 onluq 8 təklikdən əmələ gələn ədəd ilə 3 onluq 4 təklikdən əmələ gələn ədədlərin cəmi neçədir?



- A) 82 B) 74
C) 86 D) 91

2. Ədəd oxuna uyğun misallar hansıdır?



- A) 80-25 B) 47+18
55-15 65+20
C) 85-20 D) 45+20
65-18 57+10

3. Hansı əməlin nəticəsi krossvordda qeyd olunmuşdur?

S Ə K S Ə N B E Ş

- A) 36+39=
B) 71-48=
C) 67-12=
D) 18+12=

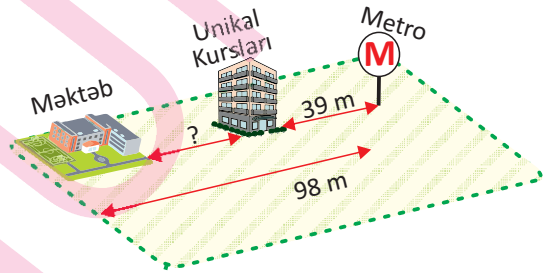
L
L
İ Y İ R M İ Ü Ç
B
İ Y İ R M İ
R

4. 34-ü 10 vahid azaldıb 2 vahid artırısam, yeni alınmış ədəd əvvəlkindən neçə vahid kiçik olar?



- A) 8 B) 10
C) 12 D) 9

5. Aşağıdakı sxemə uyğun olaraq məktəblə Unikal Kursları arasındakı məsafəni hesablayın.



- A) 58 m B) 95 m
C) 59 m D) 85 m

6. Şənbə günü 53, bazar günü 38 balıq tutdum. Tutduğum balıqların 23-nü satdım. Neçə balıq qaldı?



- A) 91 B) 59
C) 68 D) 76

1. Verilmiş pullar ilə aşağıdakılardan hansı alına **bilməz**?



2. Nigarın babası , nənəsi , atası isə xərclik verdi. Nigarın toplam nə qədər pulu oldu?

- A) 8 man. B) 10 man. C) 5 man. D) 7 man.

3. 15 manata ayaqqabı aldım. Ayaqqabının pulunu 3 ədəd kağız pulla ödədim. Sizcə mən kassaya neçə manatlıqlar verdim?



- A) 1 manatlıq B) 5 manatlıq
C) 10 manatlıq D) 20 manatlıq

4. Donun qiyməti köynəyin qiymətindən neçə manat çoxdur?



- A) 21 manat B) 8 manat
C) 12 manat D) 9 manat

5. Aynur mağazadan dəftər və qələm aldı. Satıcıya 1 manat verdi. Satıcı ona nə qədər qaytarmalıdır?



- A) 25 qəpik B) 45 qəpik
C) 50 qəpik D) 30 qəpik

6. Aydın mağazadan özünə idman ayaqqabısı, top və idman forması aldı. Aydın satıcıya nə qədər pul ödəməlidir?



- A) 55 man. B) 64 man. C) 65 man. D) 59 man

1. Uyğunluq hansı bənddə gözlənilmişdir?

A) China
[çaynə]



B) America
[əmerikə]



C) England
[inqlənd]



D) Turkey
[tökiy]



2. Şəklə əsasən milliyyəti müəyyənləşdirin.



A) Turkish
[tökiş]

B) American
[əmerikən]

C) Chinese
[çayniz]

D) English
[inqliş]

3. Hansı ölkənin paytaxtı düzgün qeyd edilmişdir?

A) Russia
[raşa]

London
[landın]

B) China
[çaynə]

Beijing
[beicin]

C) England
[inqlənd]

Ankara
[ankra]

D) America
[əmerikə]

Moscow
[moskou]

4. Hansı bənddəki tərcümədə uyğunluq gözlənilmişdir?

A) capital
[kəpitl]

paytaxt

B) nationality
[nəşnəliiti]

simvol

C) country
[kauntri]

şəhər

D) flag
[fləq]

xəritə

5. Şəkil hansı şəhərin simvolunu əks etdirir?



A) Moscow
[moskou]

B) Washington
[vaşinqtn]

C) Baku
[baku]

D) Ankara
[ankra]

6. Şəklə əsasən milliyyəti müəyyənləşdirin.

A) Azerbaijanian
[azərbaycaniyən]

B) Russian
[raşın]

C) Turkish
[tökiş]

D) English
[inqliş]



1. Verilmiş şəkil hansı peşə ilə uyğunlaşır?





- A) a singer [ə sinqə]
B) a doctor [ə doktə]
C) a pilot [ə paylət]
D) a driver [ə drayvə]



2.



Hansı bəndlərdə uyğunluq gözlənilmişdir?

- 1 a teacher [ə tiçə] → 
- 2 a policeman [ə polismən] → 
- 3 a driver [ə drayvə] → 
- 4 a pilot [ə paylət] → 

- A) 2, 3 B) 1, 4
C) 2, 4 D) 1, 3





3. Hansı bənddə peşə adı verilməmişdir?

- A) a family [ə fəmlı]
B) a pupil [ə pyupl]
C) a policeman [ə polismən]
D) a singer [ə sinqə]

4. Verilmiş şəkillərə əsasən düzgün uyğunluğu seçin.



- | | |
|-----------------------------|---------------------|
| a father [ə fazə] | a pilot [ə paylət] |
| a brother [ə brazə] | a doctor [ə doktə] |
| a mother [ə mazə] | a teacher [ə tiçə] |
| a grandfather [ə qrəndfazə] | a driver [ə drayvə] |

- A)  B) 
- C)  D) 

5. Tərcüməsi düzgün verilən söz hansıdır?





- A) a driver [ə drayvə] ➔ sürücü
B) a singer [ə sinqə] ➔ şagird
C) a teacher [ə tiçə] ➔ müğənni
D) a pilot [ə paylət] ➔ həkim

6. Şekli düzgün təsvir edən bənd hansıdır?

- A) a doctor [ə doktə]
B) a driver [ə drayvə]
C) a singer [ə sinqə]
D) a pupil [ə pyupl]



1. Hansı bənddə uyğunluq gözlənilmişdir?

- A) a square [ə skuveyə] → 
- B) a circle [ə sökıl] → 
- C) an oval [ən ouvəl] → 
- D) a rectangle [ə rektənql] → 

2. Sualın düzgün cavabı hansı bənddədir?

How many red apples?
[hau meni red əpılz?]







- A) two [tu] B) four [fo]
C) three [sri] D) six [siks]

3. Şəkildə nə təsvir olunmuşdur?



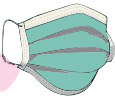



- A) a mask [ə məsk]
B) a chair [ə çeyə]
C) a box [ə boks]
D) bread [bred]

4. Hansı bənddə uyğunluq gözlənilmişdir?


- A) a melon [ə meln] → 
- B) a window [ə vindou] → 
- C) a table [ə teybıl] → 
- D) a plate [ə pleyt] → 

5. Birləşmənin düzgün təsvir edildiyi bənd hansıdır?

two buttons [tu batınz]


- A)  B) 
- C)  D) 

6. Bəndlərdə verilmiş ədədlərdən hansı kitabda qeyd edilmişdir?



- A) thirteen [sötin]
B) eight [eyt]
C) nineteen [nayntin]
D) five [fayv]

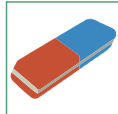
1. Partanın üzərində hansı əşya yoxdur?



- A) a sharpener [ə şapənə]
- B) a pen [ə pen]
- C) a book [ə buk]
- D) an eraser [ən ireyzə]

2. Hansı bənddə uyğunluq gözlənilmişdir?

A) a flower [ə flavə]



B) a pencil case [ə pensl keys]




C) a crayon [ə kreyın]



D) a gym [ə cim]



3. Şəkildə nə təsvir edilmişdir?



- A) a sharpener [ə şapənə]
- B) a ruler [ə rulə]
- C) a copybook [ə kopibuk]
- D) glue [qlu]

4. Ardıcılığı hansı söz tamamlaya bilməz?

a book [ə buk], a ruler [ə rulə], a pencil [ə pensl]

- A) an eraser [ən ireyzə]
- B) a pot [ə pot]
- C) a crayon [ə kreyın]
- D) a bag [ə bəq]

5. Çantada nələr təsvir edilmişdir?



a book [ə buk]

a ruler [ə rulə]

a pencil [ə pensl]

scissors [sizəz]

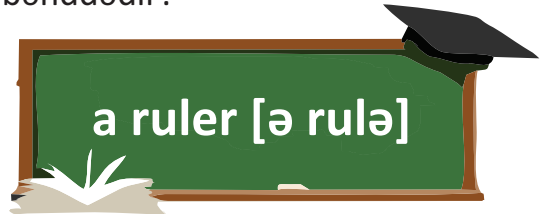
A)

B)

C)

D)

6. Lövhədə yazılan söz hansı bənddədir?



A)



B)



C)



D)



1. Göstərilmiş havaya uyğun geyim hansı bənddədir?



- A) a scarf [ə skaf]
B) a jacket [ə cəkit]
C) shorts [şotz]
D) a coat [ə kout]

2. Uyğunlaşdırın.

1. a blue jumper
[ə blu campə]



2. an orange cap
[ən orinc kəp]



3. a brown coat
[ə braun kout]



- 1- ■ 1- ● 1- ▲ 1- ●
A) 2- ● B) 2- ▲ C) 2- ■ D) 2- ■
3- ▲ 3- ■ 3- ● 3- ▲

3. Göstərilmiş havaya uyğun geyim hansı bənddədir?



- A) sandals [səndılz]
B) a raincoat [ə reynkout]
C) a T-shirt [ə ti-şöt]
D) mittens [mitinz]

4. Məntiqi ardıcılığı tamamlayın.

shoes [şuz], sandals [səndılz],

...


- A) boots [buts]
B) trousers [trauzəz]
C) a lilac [ə laylək]
D) the moon [ze mun]

5. Şəkil ilə bağlı düzgün fikirləri seçin.



1. His cap is blue.
[hiz kəp iz blu]
2. The weather is rainy.
[ze vezə iz reyni]
3. His trousers are brown.
[hiz trauzəz a braun]
4. His shoes are black.
[hiz şuz a blək]
A) 1, 2 B) 2, 4 C) 2, 3 D) 1, 4

6. Göstərilmiş havaya uyğun geyim hansı bənddədir?



- A) a sweater [ə svitə]
B) shorts [şotz]
C) sandals [səndılz]
D) a T-shirt [ə ti-şöt]

1. Hansı hərəkət təhlükəlidir?



- A) Avtobusun pəncərəsindən qolumuzu çıxarmaq
- B) Lifti hərəkət etdirmək üçün düyməyə toxunmaq
- C) Avtobusun arxa qapısından minmək
- D) Eskalatorda üzü hərəkət istiqamətində dayanmaq

2. Hansı bənddə "Yerüstü keçid" nişanı göstərilib?

- A)
- B)
- C)
- D)

3. Hansı uşağın verdiyi məlumat **səhvdir**?

- A) Eskalatorun sağ tərəfində dayanmaq lazımdır.
- B) Hərəkətdə olan liftin qapısını açmaq olmaz.
- C) İşıqfor qoyulmayan piyada keçidlərində piyadaları görəndə sürücü yoluna davam etməlidir.
- D) Avtobusun pəncərəsindən qolumuzu və başımızı çölə çıxarda bilmərik.

4. Yol nişanlarından hansı **səhvdir**?

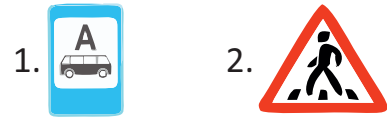
- A) Piyada keçidi
- B) Yeraltı keçid
- C) Yerüstü keçid
- D) Tramvay dayanacağı

5. Aşağıdakılardan hansılar işıqforun rənglərinə görə hərəkət **etmir**?



- A) 1, 2
- B) 3, 4
- C) 3, 5
- D) 1, 4

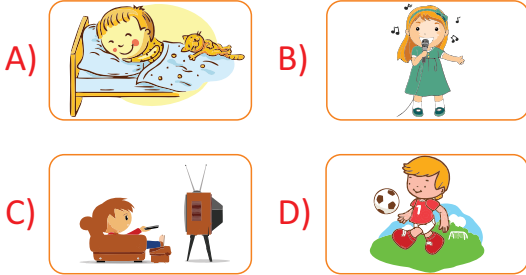
6. Uyğunluğu müəyyən edin.




- a. avtobus dayanacağı nişanı
- b. piyadalar üçün keçid nişanı
- c. piyadaların hərəkəti qadağandır nişanı
- d. yeraltı keçid nişanı

- A) 1- d; 2- a
- B) 1- c; 2- b
- C) 1- a; 2- c
- D) 1- b; 2- d

1. Hansı şəkildəki hərəkəti həftənin 7 günü mütləq etməliyik?



2.  *Man gün rejminə əməl etmirəm. Gec oyanıram.*
Salim

Aşağıdakı fikirlərdən hansını Səlimə aid etmək **olmaz**?

- A) Yuxu rejiminə əməl etmir.
B) Özünü yorğun hiss edir.
C) Vaxtını düzgün bölür.
D) Gümrah və sağlam görünür.

3. *Man yorulmamaq və bütün işləri yerinə yetirmək üçün gün rejiminə diqqət edirəm.*

Rəsul

Aşağıdakılardan hansı Rəsulun gün rejiminə aid ola **bilməz**?

- A) 7:00-7:20 → Yuxudan oyanmaq
B) 13:00-14:00 → Nahar etmək
C) 14:00-17:00 → Dərslərini oxumaq
D) 21:00-01:00 → Televizora baxmaq

















4. Günün səmərəli keçməsi üçün şagird nə etməlidir?

- A) Televizora baxmalıdır.
B) Gün rejiminə əməl etməlidir.
C) Dərslərini çoxlu oxumalıdır.
D) Vitaminli qidalar qəbul etməlidir.


5.  *Yeməyimizi yemək*











Məktəbdən gəldikdən sonra sırasına görə nələri etməliyik?

- A)     B)    
C)     D)    

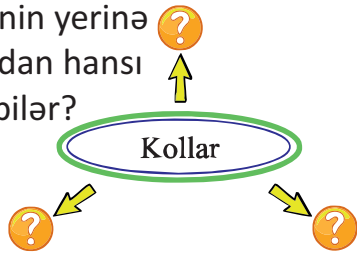
6. Səhər oyananda ilk etdiyimiz hərəkət hansı olmalıdır?



1. Hansı qarşılaşdırma doğru deyil?

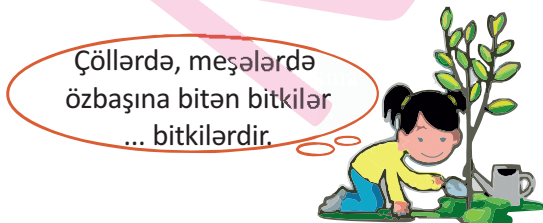
- A)  → 
- B)  → 
- C)  → 
- D)  → 

2. “?” işarələrinin yerinə aşağıdakılardan hansı uyğun gələ bilər?



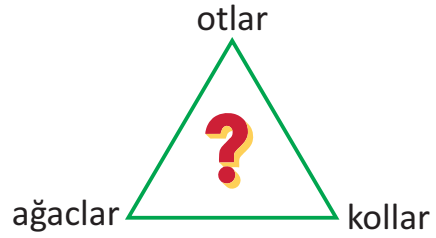
- A) fındıq, armud, giləs
- B) nar, heyva, portağal
- C) üzüm, alma, yemiş
- D) nar, fındıq, qarağat

3. Nöqtələrin yerinə aşağıdakılardan hansı uyğun gələ bilər?



- A) mədəni B) kol
- C) yabanı D) çöl

4.



? işarəsinin yerinə aşağıdakılardan hansı yazıla bilər?

- A) bitkilər B) heyvanlar
- C) meyvələr D) tərəvəzlər

5. Hansı simvolla işarələnmiş heyvanlar göstərildiyi qrupa aid deyil?

Ət yeyən heyvanlar







Ot yeyən heyvanlar

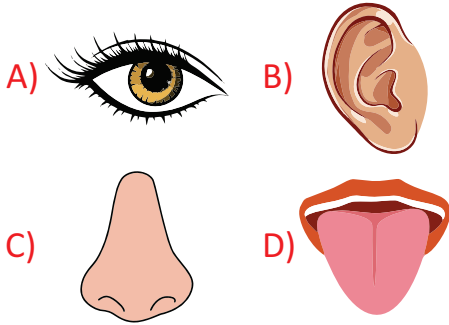


- A) ■ ■ B) ■ ▲
- C) ● ▲ D) ■ ◆

6. Heyvanların insanlara xüsusi faydaları var. Aşağıda şəkli verilən canlıların hansından qida olaraq yararlanırıq?

- A)  B) 
- C)  D) 

1. Vizual informasiya insanın hansı orqanı ilə qəbul edilən informasiyaadır?







2. "Oğlan bağda stulda oturub radiodan xəbərlərə qulaq asır." Bu cümlədə informasiya mənbəyi hansıdır?



- A) radio B) stul
C) oğlan D) bağ

3. Gözlə görmədən və əl ilə toxunmadan verilmiş meyvələri hansı informasiya vasitəsi ilə müəyyən etmək olar?



- A) dad informasiyası 
- B) daktıl informasiya 
- C) qoxu informasiyası 
- D) vizual informasiya 

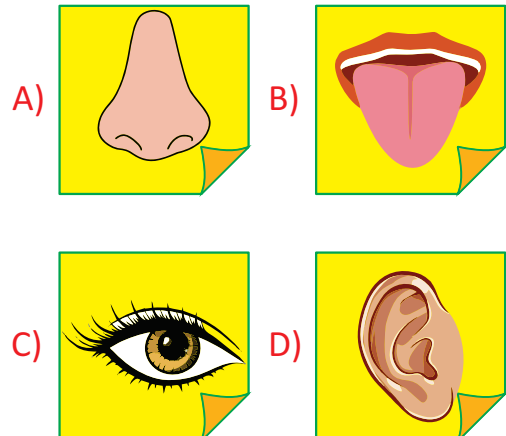
- 4.



Televizor hansı informasiya vasitəsidir?

- A) səs və vizual informasiya
- B) səs və daktıl informasiya
- C) daktıl və vizual informasiya
- D) qoxu, səs və göz informasiyası

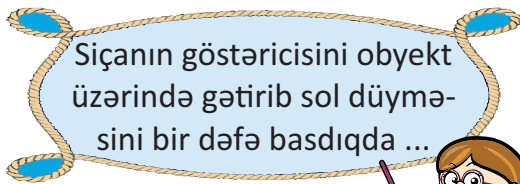
5. Audial informasiya insanın hansı orqanı ilə qəbul edilən informasiyaadır?



1. Siçanın əsas hissəsi hansıdır?

- A) təkərcik B) sağ düymə
C) sol düymə D) yan düymə

2. Müəllim məlumatını hansı ifadə ilə tamamlamalıdır?



- A) obyekt seçdirilir
B) obyektin adı dəyişir
C) obyekt icra olunur
D) obyektin pəncərəsi açılır



3. Şəkillərin hansında siçanın göstəricisi var?

- A) B) Yaz gəldi. |
C) D)

4.

Obyekti seçdirmək üçün nə etmək lazımdır?

- A) Siçanın göstəricisini onun üzərinə gətirib, sol düyməni iki dəfə çıqqılatmaq
B) Siçanın göstəricisini onun üzərinə gətirmək
C) Siçanın göstəricisini onun üzərinə gətirib, sol düyməni çıqqılatmaq
D) Siçanın göstəricisini onun üzərinə gətirib, sağ düyməni çıqqılatmaq

5.



-dan nə üçün istifadə olunur?

- A) Obyekti seçmək üçün
B) İnformasiyanı çap etmək üçün
C) İnformasiyanı yaddaşa saxlamaq üçün
D) İnformasiyanı emal etmək üçün

1. Verilmiş şəkli çəkmək üçün qrafik redaktorun hansı alətlərdən istifadə olunub?







- A)   B)  
- C)   D)  

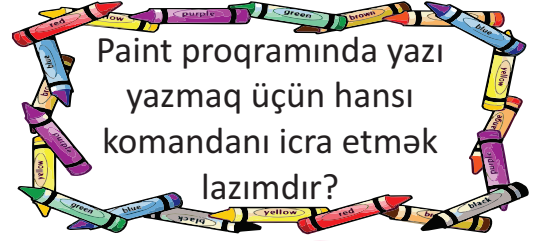
2.  komandasının adı nədir?

- A) palitra B) paint
- C) qrafik redaktor D) alətlər zolağı





3. Qrafik redaktorda çoxbucaqlı çəkmək üçün hansı alətdən istifadə olunur?

- A)  B) 
- C)  D) 

- 4.






Paint programında yazı yazmaq üçün hansı komandanı icra etmək lazımdır?

- A)  B) 
- C)  D) 

- 5.

Hansı qrafik redaktordur?

- A) Word 
- B) WordPad 
- C) Info-ko 
- D) Paint 