



FƏNLƏR TOPLUSU

ONLAYN SINAQ İMTAHANLARI

Ödənişsiz və ödənişli
sınaq imtahanlarından istifadə
etmək üçün QR kodu oxudun.



QR code reader



Əziz dostum!

Yaşadığımız dünya demək olar ki, hər saniyə dəyişir. Elm və texnologiya durmadan inkişaf edir. Azərbaycanın dünyada güclü dövlətlərdən biri olması üçün biz də özümüzü inkişaf etdirməliyik.

Bu gün sən şagirdsən. Əsas vəzifən dərslərini yaxşı oxumaqdır. Unutma! Sən dərslərini nə qədər yaxşı oxusan, Azərbaycan bir o qədər güclü dövlət olacaq. Çünki Azərbaycanın gələcəyi sizlərsiniz!

Kamil MƏMMƏDOV

TESTLƏR

YENİ NƏŞR

Bakı - 2020

1. Şeirın hansı misrasında yalnız incə saitlər işlənib?

Araz, Araz, daşqın Araz,
Dalğaları aşqın Araz.
Könlüm kimi coşqun Araz,
Nə gözəldir gözün sənin.
(R.Rza)

- A) 1 B) 2
C) 3 D) 4

2. Dairənin hansı hissəsində yalnız qalın saitli sözlər yazılmışdır?



- A) B) C) D)

3. Nöqtələrin yerinə uyğun gələn saitlərin ardıcılığını müəyyən.

N...m...nə
◆-u ●-ü

- A) ◆ ● B) ◆ ◆
C) ● ◆ D) ● ●

4. Hansı sıralarda həm qalın, həm də incə saitlər işlənmiş sözlər verilmişdir?

- müvəffəqiyyət, bolluq, döngə
 əziz, şamama, dost
 münasibət, xeyirxah, sakit
 samit, təkrar, hadisə

- A) B)
C) D)

5. "Avtomobil" sözünün sait tərkibi haqqında hansı məlumat doğrudur?

- A) Yalnız incə saitlər var.
B) Bütün saitlər dodaqlanandır.
C) Həm dodaqlanan, həm də dodaqlanmayan saitlər var.
D) Bütün saitlər qalındır.

6. Hansı şəkil adının son səsi dodaqlanan incə saiddir?

- A) B)
C) D)

7. Cümləni tamamlayın.

Danışanın sözünü kəsmək ona ...





- A) səliqəsizlikdir.
- B) səhlənkarlıqdır.
- C) hörmətsizlikdir.
- D) tələbkarlıqdır.

8. Cümləni hansı bənddəki ifadə tamamlayır?





Yaxşı dinləyici ...

- A) sözləri yaxşı tələffüz edir.
- B) hərfləri tanıyır.
- C) danışana diqqətlə qulaq asır.
- D) fikirləri anlamaqda çətinlik çəkir

9. Hansı şagird səhv fikir söyləyir ?

- A)  Danışarkən yersiz söz istifadə etmək olmaz.
- B)  Danışarkən mövzudan kənara çıxmamalıyıq.
- C)  Bizi dinləyənlərin gözüne baxmalıyıq.
- D)  Danışarkən mimika və jestlərdən istifadə etmək olmaz.

10. Hansı nitq bacarığı deyil?

- A)  kitab oxumaq
- B)  şəkil çəkmək
- C)  şeir demək
- D)  dərs danışmaq

11. Boşluğu doldurun.

Uşaqlar yay tətillərini necə keçirmələri barədə öz təəssüratlarını bölüşdülər. Növbə Gülsümə çatdı. Onun təəssüratları çox olsa da, dostları ilə bölüşə bilmədi. Gülsümdə bacarığı zəif idi.



12. Məlumatların doğru və ya yanlış olduğunu müəyyənləşdirin.

Məlumat	Doğru	Yanlış
Jest nitqin təsirini artırmaq üçün istifadə olunan əl-qol hərəkətlərinə deyilir.		
Mimika üz əzələlərinin insanın keçirdiyi əhvali-ruhiyyəsini əks etdirən hərəkətdir.		
Ünsiyyət nitq vasitəsilə baş verir.		
Dinləyərkən və danışarkən istifadə edilən söz və cümlələr səslərlə ifadə olunur.		

1. "Müəllim" sözünün orfoepiyası ilə bağlı hansı fikirlər doğrudur?

- 1 "ə" saiti uzun tələffüz edilir.
- 2 6 səs var.
- 3 [Mə:llim] şəklində tələffüz olunur.
- 4 Sözdə uzanan sait yoxdur.

- A) 1, 2, 4
- B) 2, 4
- C) 1, 2, 3
- D) yalnız 4

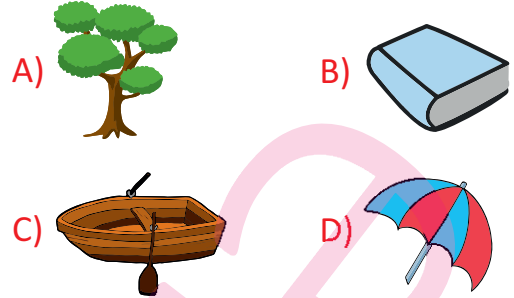
2. Uşaqlardan hansı ona verilmiş sözü düzgün tələffüz etməyib?

- A) əmtəə [əmtə:]
- B) təəssüf [tə:süf]
- C) iaşə [iya:şə]
- D) göyçək [göyçəx]

3. Dilçiliyin hansı sahəsi sözlərin düzgün yazılışından bəhs edir?

- A) etimologiya
- B) orfoepiya
- C) orfoqrafiya
- D) morfologiya

4. Hansı şəklın adında son samit fərqli tələffüz olunmur?



5. Hansı qoşa saitlərin tələffüz şəkli düzgün göstərilib?

	aa	→	[a:]
	üə	→	[ə]
	iə	→	[iyə]
	əa	→	[ə:]
	io	→	[iyo]

- A)
- B)
- C)
- D)

6. Şəklın adı hansı bənddə düzgün yazılıb?



- A) kirpik
- B) kipriy
- C) kirpiy
- D) kiprik

7. "Q" samitinin səslənməsinə görə uyğunluğu müəyyən edin.

I: məqsəd a) çardağ
II: qəlb b) toqqa
III: bulaq c) qələm

- A) I-b; II-c; III-a B) I-c; II- a; III-b
C) I-b; II-a; III-c D) I-a; II-c; III-b

















8. Hansı sözlərin deyilişi ilə yazılışı fərqlənir?

faciə güney səadət
bəsir ailə

- A)   B)  
C)   D)  





9. Səhv yazılmış sözləri tapın.

				
1	aşbaz	keşniş	həyəcan	əcaib
2	ağacdələ	çaşqın	bəxdəvər	büllur
3	gicitkən	layihə	məmnun	prablem
4	gonbul	əşyavi	heyif	izin

- A) 1  2  3  4 
B) 1  2  3  4 
C) 1  2  3  4 
D) 1  2  3  4 

10. İbrahim çölə çıxmaq istəyir. Bunun üçün üzərində orfoqrafik qaydalarla riayət olunmuş açarı tapmalıdır. Buna görə İbrahim qapını aşağıdakı açarlardan hansı ilə açabilir?



- A)  B) 
C)  D) 

11. Doğru yazılan sözləri ✓, səhv yazılan sözləri ✗ simvolu ilə işarə edin?

şagird ☐
şənbə ☐
təbiyyət ☐
nöktə ☐

12. Cədvəli tamamlayın.

Yazılış	Deyiliş
sevinc	
	kampot
çıraq	
ailə	
	malicə

1. Mətnlər hansı hissələrdən ibarət olur?

- A) Giriş, əsas hissə
- B) Giriş, başlıq, sonluq
- C) Giriş, əsas hissə, sonluq
- D) Əsas hissə, sonluq

2. *Dünyada 9800-dən çox quş növü var. Quşların əsas xüsusiyyəti onların uça bilməsidir.*

Quşlar arasında qartalların xüsusi yeri var. Qartallar meşə və dağlarda yaşayırlar. Geniş qanadları olur. Yuvaları əlçatmaz yerdə olur. Qartallar balalarını yedirərkən, adətən, göz qapaqlarını yumurlar.

Mətnin əsas hissəsində nədən bəhs olunur?

- A) Quşlardan
- B) Qartallardan
- C) Qartal balalarından
- D) Quş yuvalarından

3. Dialogda buraxılan durğu işarələrinin düzgün ardıcılığını seçin.

Ana oğlunu səslədi

—Fuad, dərslərini hazırlamısan
—Ana, yox
—Tez kitabını götür, dərslərini oxu
—Baş üstə

- A) iki nöqtə, sual, nöqtə, nida, nida
- B) iki nöqtə, nida, nöqtə, sual, nöqtə
- C) nöqtə, sual, nöqtə, sual, nöqtə
- D) nöqtə, nida, sual, nida, nida

4. Verilmiş dialoga əsasən Gülxarın hansı cavabı verməyi doğru davranış olar?



Yeməkdən əvvəl təzə dəmlənmiş çay istərdinizmi?



- A) Pis görsənir, istəmirəm.
- B) Xeyr, sənin çayını istəmirəm.
- C) Mən yemək yemirəm.
- D) Təşəkkür edirəm, amma mən ac olarkən çay içmirəm.

5. Aşağıdakı dialoga əsasən Aygünün hansı cavabı verməyi doğru olar?



Olar xətkəşindən istifadə edim?

- A) Xeyr, verə bilmərəm xətkəşi.
- B) Əlbəttə, buyur işlət.
- C) Özümə lazımdır.
- D) Bu mənim bacımındır.

6. Mətnin əsas hissəsində...

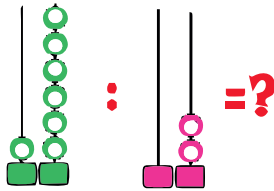
- A) hadisələrin baş verdiyi yer barədə məlumat verilir.
- B) qəhrəmanın başına gələn hadisələr təsvir olunur.
- C) hadisənin necə bitdiyi bildirilir.
- D) məzmunla bağlı nəticə çıxarılır.

1. ☆ olan yerə hansı ədəd yazılmalıdır?

$$\begin{array}{r} \times 2 \\ 3 \\ \hline \square \end{array} \quad \begin{array}{r} \times \square \\ 4 \\ \hline \star \end{array}$$

- A) 18 B) 24
C) 32 D) 48


2. Modellə verilmiş bölmə əməlinin nəticəsi neçəyə bərabərdir?



- A) 4 B) 8
C) 9 D) 12

3. Sxemə uyğun vurma əməli hansı bənddə düzgün göstərilib?

- A) $8 \times 6 = 48$
B) $7 \times 7 = 49$
C) $7 \times 8 = 56$
D) $8 \times 8 = 64$



4. Dairələrə uyğun olaraq hansı müqayisə işarələri yazılmalıdır?

$$28:7 \quad \bigcirc \quad 30:10$$

$$60-28 \quad \bigcirc \quad 8 \times 4$$

$$7 \times 9 \quad \bigcirc \quad 48+16$$

- A) $< = >$ B) $> = <$
C) $> < =$ D) $> = >$

5. 60 şitili hər birində eyni sayda olmaqla 6 cərgədə əkdilər. Hər cərgədə neçə şitil oldu?

- A) 6 B) 10
C) 16 D) 12

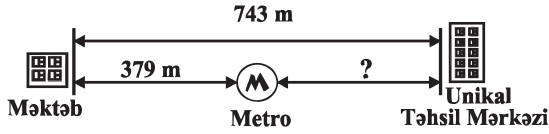
6.



Noxud torbasının kütləsi neçə kiloqramdır?

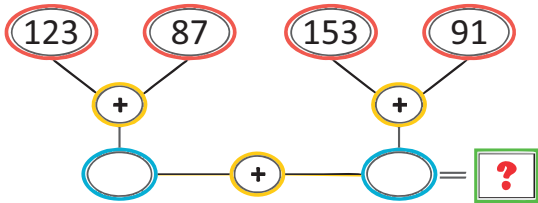
- A) 72 kq B) 17 kq
C) 48 kq D) 68 kq

1. Məktəb ilə Unikal kursları arasında-
kı məsafə neçə metrdir?



- A) 346 m B) 264 m
C) 364 m D) 464 m

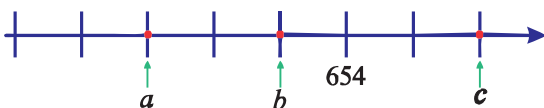
2. Verilmiş əməlin nəticəsi haqqında aşağı-
dakılardan hansı **doğrudur**?



- A) Nəticə 452-dən kiçikdir. B) Nəticə 470-dən böyükdür.
C) Nəticə 450-dən kiçikdir. D) Nəticə 449-dən böyükdür.

3. Ədədlər verilən qayda ilə ədəd oxu
üzərində düzülməlidir. Buna görə,
 $(c - b) + a$ neçədir?

35 vahid artan sıra ilə



- A) 654 B) 858
C) 576 D) 497

4. İki ədədin cəmi 527-dir. Birinci toplanana
44, ikinci toplanana 13 əlavə edilərsə,
yeni cəm neçə olar?

- A) 571 B) 539
C) 563 D) 584

- 5.

263+148-317 əməlinə
alınan nəticə üçün aşağıdakı-
lardan hansı deyilə bilməz?



- A) Alınan ədəddə 9 onluq var.
B) Ədəd 3-ə qalıqsız bölünür.
C) 100-lük kvadrat cədvəlində 10-cu sıra,
4-cü sütunda yerləşir.
D) 2-yə böldükdə qismət 47 olur.

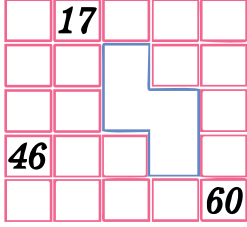
- 6.

Məktəbimizdə 835 nəfər
şagird təhsil alır. Məktəbin Tarix
muzeyinə təşkil etdiyi gəzintiyə
154 nəfər qatıldı. Bu gəzintiyə
neçə nəfər şagird qatılmamışdır?



- A) 681 B) 677
C) 746 D) 579

1. 100-lük kvadratda boş hissəyə uyğun fiqur hansıdır?



- A) B) C) D)

2.

116

1. + = 212 2. + = 232

3. 116 + = 251 4. - = 32

100-lük kvadrata əsasən hansı bərabərlik *səhv*dir?

- A) 1, 3 B) 2, 4 C) 3, 4 D) 1, 4

3. 100-lük kvadrat cədvəlinə əsasən hesablayın.

212	A
C	B

$$(A + B) - C = ?$$

- A) 221 B) 214
C) 216 D) 241

4. Boş xanaların yerində uyğun olaraq hansı ədədlər olmalıdır?

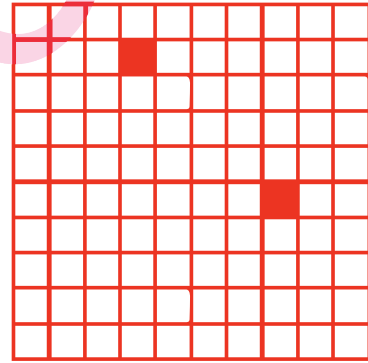
$$432 - \square = 248$$

$$215 - \square = 165$$

$$361 - \square = 300$$

- A) $\square - 174$ B) $\square - 189$
 $\square - 55$ $\square - 100$
 $\square - 60$ $\square - 71$
- C) $\square - 184$ D) $\square - 168$
 $\square - 50$ $\square - 80$
 $\square - 61$ $\square - 19$

5. 100-lük kvadrat cədvəlində rənglənmiş hissələrdə olan rəqəmlərin cəmi neçədir?



- A) 24 B) 58 C) 72 D) 44

6. Birinci ədəd rəqəmləri müxtəlif olan ən kiçik üçrəqəmli cüt ədəd olarsa, üçüncü ədədi tapın.

$$\square + 374 + \square = 879$$

- A) 405 B) 402 C) 404 D) 403

1. Asim sinif yoldaşları üçün 18 meyvə şirəsi və hər birində 8 paket olmaqla 3 qutu keks aldı.

Məsələyə əsasən uyğunluğu tapın.

1. 2 qutuda cəmi neçə keks var?
2. Meyvə şirələrinin sayı kekslərin sayından neçə ədəd azdır?
3. Kekslərin sayı nə qədərdir?

a) 24 b) 16 c) 6

- A) 1-b; 2-a; 3-c B) 1-c; 2-b; 3-a
C) 1-a; 2-b; 3-c D) 1-b; 2-c; 3-a

2. Məsələnin həlli hansı bənddə düzgün göstərilib?



Ayselin 28 qələmi var. Aytənin qələmlərinin sayı Aselin qələmlərinin sayından 30 dənə çoxdur. İkisinin birlikdə cəmi neçə qələmi var?

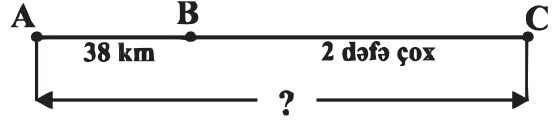
- A) $28+30=58$ B) $30-28=2$
C) $28+30=58$ D) $28+30=58$
 $58+28=86$ $58+30=88$

3. Natiq hansı əşyaları alsa, təxminən 700 manat ödəyər?

456 azn	72 azn	41 azn	143 azn

- A) B)
C) D)

4. A və C məntəqələri arasındakı məsafəni tapın.



- A) 76 km B) 40 km
C) 114 km D) 110 km

5. Samirə aldığı kitabın 1-ci gün 110, 2-ci gün 197 səhifəsini oxudu. O, 3-cü gün isə 1-ci gündəkindən 78 səhifə çox olmaqla kitabı oxuyub bitirdi. Samirənin aldığı kitab neçə səhifə idi?

- A) 188 B) 298
C) 385 D) 495

6. Mehman yandakı əşyaları alaraq kassirə ? manat pul verdi. Kassirə ona 4 manat 90 qəpik qaytardı. Mehman kassirə nə qədər pul vermişdi?



13 manat
50 qəpik



6 manat
60 qəpik

- A) 20 manat
B) 25 manat
C) 27 manat
D) 30 manat

1. Elnur eyni qiymətə aldığı kitablara cəmi 18 manat verdi. 1 kitab neçəyədir?



- A) 21 manat B) 6 manat
C) 15 manat D) 8 manat

2. Pulunu  manatlığa tamam-

lamaq üçün Akifin neçə manatlığa ehtiyacı var?




Cibimdə  manat və  manat pul var.



- A) 7 B) 6
C) 5 D) 8

3. Hansının pulu daha çoxdur?



4. Validə xanım 45 manata don, 18 manata çanta, 22 manata ayaqqabı aldı. Kassaya 100 manat verdi. Kassir ona neçə manat qaytarmalıdır?




- A) 85 manat B) 15 manat
C) 25 manat D) Pul qaytarmamalıdır.

5. Ana 98 manata aldığı tozsoran üçün əvvəlcə 35 manat ödədi. Tozsoranın qalan dəyərini isə 7 ay ərzində ödəməlidir. Ana hər ay tozsoran üçün neçə manat ödəməlidir?


- A) 9 manat B) 11 manat
C) 10 manat D) 8 manat

6. 6 qol saat üçün ödənilən məbləğ verilmişdir. 1 saatın qiyməti neçə manatadır?



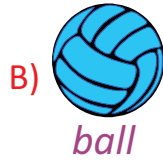

- A) 70 man. B) 60 man.
C) 50 man. D) 40 man.

1. Aşağıdakı boşluqlara uyğun hərfləri seçin.



- A) E, L, P, H B) M, O, S, W
C) E, G, H, J D) K, U, R, X

2. Hansı şəklın adı [ei] səsiylə başlayır?



3. What letter do they begin with "H,h".
"H,h" hərfi ilə başlayan şəkil hansıdır?



4. Uyğunluğu müəyyən edin.



1. [ju] 4. [æe]
2. [k] 5. [s]
3. [ʌ] 6. [ei]


	□	☆	○
A)	3, 6	1, 4	2, 5
B)	4, 6	1, 5	2, 3
C)	3, 4	5, 6	2, 1
D)	4, 6	1, 3	2, 5

5. Düzgün bəndi seçin.

Choose the words with the sound [b]

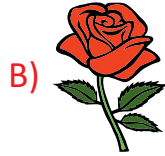


6. Şəklın adı hansı səslə başlayır?



- A) [ei] B) [e] C) [i:] D) [b]

1. *What sound do they begin with [r] ?*



2. Hansı bənddə qarışıq hərflərdən düzəldilmiş düzgün söz verilmişdir?



A) spoon

B) noosp

C) snopo

D) ospon

3. Hansı şəkillərin adı [kw] səsiylə başlayır?

1. ?

2.



3.



4.



5.





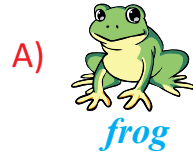
A) 1, 3

B) 2, 5

C) 4, 5

D) 1, 2

4. Hansı canlının adı səhv qeyd olunub?



5. Boş xanalara uyğun gələn hərfləri müəyyən edin.

P U P E

A) A L

B) R L

C) R T

D) R C

6. Choose the line of words with the sound [æ]

A) rabbit, ask, mother

B) fat, cat, apple

C) map, lamp, horse

D) apricot, man, actress

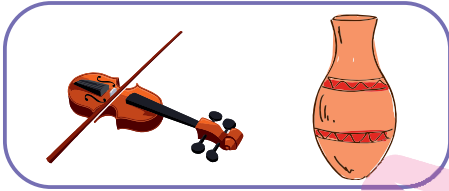
1. Verilmiş boşluqlara ardıcılıqla hansı artikkelər qoyulsa, düzgün olar?



Is he ... actor or ... painter?

- A) the, the B) a, the
C) an, an D) an, a

2. Şəkillərə uyğun gələn sözləri göstərin.




- A) a violin and a vase
B) violet and a hat
C) a ball and a vase
D) a lemon and a ruler

3. Is he ... singer or ... painter?

- A) a/the B) a/an
C) an/an D) a/a


4. What is it?



- A) a kitten B) a kite
C) a kitchen D) a key

5. Şəklə uyğun bəndi seçin.

- A) a carpet
B) a car
C) a candle
D) a chair





6. Keksın forması hansı bənddə düzgün verilmişdir?

- A) a square cookie
B) an oval cookie
C) a circle cookie
D) a star cookie



7. Düzgün bəndi seçin.

*"I have a shirt and trousers.
My shoes are white."*



8. Nöqtələrin yerinə uyğun gələn sözü tapın.



I have got a new ...
It's very nice

A) ship
C) bike

B) plane
D) train

9. Nöqtələrin yerinə uyğun gələn sözü seçin.



*I have got a ...
It is black and white.
It is a little animal.
It has got four legs.
It has got two ears and two eyes.*

A) cow
C) cat

B) fish
D) horse

10. Mətnə söhbət hansı heyvandan gedir?

*It has got two legs.
It has got a beak and
two wings.*



11. Tərcümə edin.

1. Onun uşaqlarının almaları yoxdur.

2. Sizin atanızın maşını var?

12. Cümlə qurun.

Sister got her new camera
has a

1.

Where is the car?



- A) It is on the car
- B) It is near the bed
- C) It is in the basket
- D) It is in front of the ball

2. Sual işarəsinin yerinə hansı sözünü uygundur?



- A) at
- B) in front of
- C) out
- D) in

3. Aşağıdakı boşluğa uyğun ifadəni seçin



- A) in
- B) under
- C) at
- D) on

4. Şəklə uyğun olaraq düzgün bəndi seçin.

Liz: Where are the flowers?

Lenny: They are the house

- A) on
- B) under
- C) in front of
- D) in



5. Where are the monkeys?



- A) They are in front of the cage.
- B) They are on the cage.
- C) They are not in the cage.
- D) They are in the cage.

6.

Hansı fərqlidir?

- A) a piece of cheese
- B) under
- C) in
- D) behind

7.



Where is Asif from?

- A) He is from England.
- B) He is from Azerbaijan.
- C) He is from China.
- D) He is from Turkey.

8. What is it?



- A) xylophone
- B) violin
- C) violet
- D) piano

9.

What is it?



- A) a carpet
- B) a T-shirt
- C) a dress
- D) a TV

10. Altından xətt çəkilmiş sözə sual verin.

They make a sandcastle together.

- A) What do they make together?
- B) What does they make together?
- C) Where do they a sandcastle make?
- D) When do they make together?

11.

Suallara cavab verin.

What is your job?

What is your favourite colour?

12. Altından xətt çəkilmiş sözlərə sual verin.

She can swim in the yard.

Aynur has got a kitten.

1. Parta yoldaşınız dərstdən geri qalarsa, siz nə etməlisiniz?

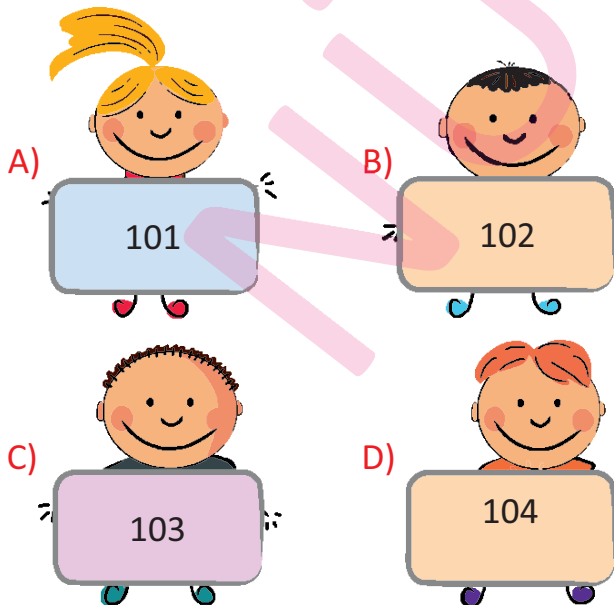
- A) Heç nə olmamış kimi davranmalıyam.
- B) Ona kömək etməliyəm.
- C) Anasına deməliyəm.
- D) Müəlliməyə deməliyəm.

2. Nöqtələrin yerinə hansı sözü yazmaq olar?

Bəzi adətlər nəsildən-nəslə keçərək uzun illər boyu yaşayır. Nəsil-lərdən nəsillərə keçərək möhkəmlənmiş adətlər ... adlanır.

- A) vərdiş
- B) ənənə
- C) alışqanlıq
- D) mərasim

3. Bir insanın səhhətində problem yarandıqda hansı nömrəni yığaraq kömək istəməliyik?



4.

Hansı keyfiyyətlər sayəsində özümüzün və yaxınlarımızın həyatını xilas edə bilərik?

- 1. dürüstlük
- 2. qayğıkeşlik
- 3. təvazökarlıq
- 4. vətənpərvərlik
- 5. məsuliyyətlik
- 6. çalışqanlıq

- A) 1, 4
- B) 2, 3
- C) 3, 6
- D) 2, 5

5.



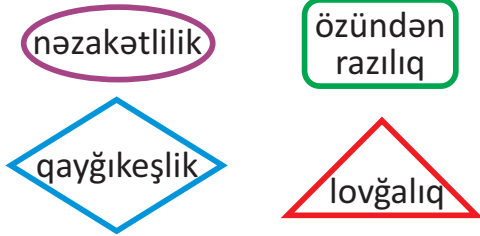
- A) Zəif oxuyan yoldaşlarına kömək etmək
- B) Hər ilin sonu akt zalına toplaşmaq, uğurlardan danışmaq.
- C) Süfrə ətrafında birlikdə olmaq
- D) Eyni qapıya qol vurmağa çalışmaq

6.

Küçədə, marketdə və ya hər hansı bir yerdə çətinə düşdükdə ilk öncə nə etmək lazımdır?

- A) ağlamaq
- B) təmkinli olmaq
- C) çalışqan olmaq
- D) nizam-intizamlı olmaq

1. Hansılar müsbət keyfiyyətlərdir?



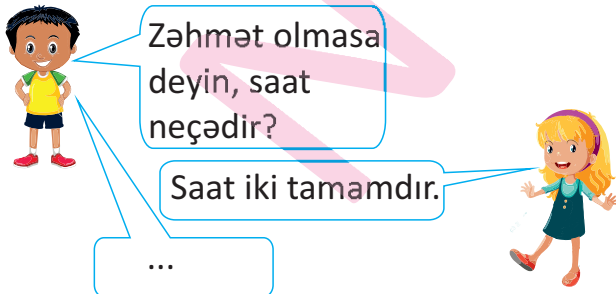
- A) B)
C) D)

4. Aşağıda sadalanan xüsusiyyətlər hansı mənəvi keyfiyyətə malik insanlara aiddir?

Qarşılarındakı insanı sonadək dinləyir, onun sözünü yarıda kəsmirlər. Cavab verməzdən əvvəl düşünürlər. Özlərindən böyüklərlə danışanda ona "sən" yox, "siz" deyər müraciət edirlər.

- A) təvazökar B) nəzakətli
C) məsuliyyətli D) vətənpərvər

3. Nöqtələrin yerinə hansı ifadə uyğun gəlir?



- A) Təşəkkür edirəm! B) Yaxşı yol!
C) Salamət qal! D) Bağışlayın!

2. Bizdən böyük birinə yol verərkən hansı ifadədən istifadə etmək daha düzgündür?

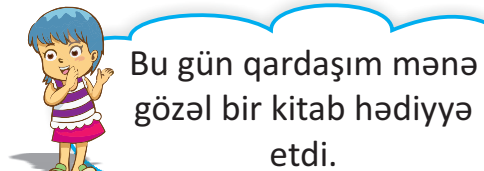
- A) Yaxşı yol! B) Keç!
C) Buyurun! D) Salamət qal!

5. *Murad dəhlizdə qaçarkən sinif yoldaşı Leyla ilə toqquşdu. Leyla yıxıldı və ağ-lamağa başladı. Bunu görən Murad ayaq saxladı və* *-dedi.*

Boşluğa hansı bənddəki ifadəni yazsaq, doğru olar?

- A) Leyla, çox diqqətsizsən!
B) Leyla, qalx ayağa və bundan sonra diqqətli ol!
C) Leyla, bağışla, bilmədən oldu!
D) Leyla, bundan sonra dəhlizdə gedər-kən ətrafına bax!

6.



Lalə qardaşına hansı sözü deməlidir?

- A) Salamət qal! B) Təşəkkür edirəm!
C) Allah şəfa versin! D) Sabahın xeyir!

1. Hansı məlumat səhvdir?

- A) *Antarktida ən soyuq materikdir.*
- B) *Ən isti ərazilər Afrika materikindədir.*
- C) *Dünyanın ən böyük səhrası Avstraliya materikindədir.*
- D) *Ən uca dağ zirvələri Avrasiya materikindədir.*

2. Xəritədə nömrələnmiş materik adları hansı bənddə doğru verilmişdir?



- A) 1 - Cənubi Amerika
2 - Afrika
3 - Avrasiya
- B) 1 - Şimali Amerika
2 - Antarktida
3 - Avstraliya
- C) 1 - Şimali Amerika
2 - Afrika
3 - Avrasiya
- D) 1 - Şimali Amerika
2 - Cənubi Amerika
3 - Antarktida

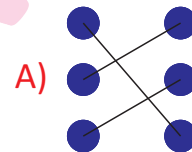
3. Üç tərəfi su ilə əhatə olunan, bir tərəfi quruya birləşmiş yerə nə deyilir?

- A) ada
- B) yarımada
- C) materik
- D) qitə

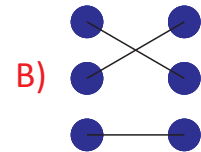
4. Adaları materikdən fərqləndirən xüsusiyyət hansıdır?

- A) Adaların materiklərdən böyük olması
- B) Adalarda canlılar aləminin daha zəngin olması
- C) Adaların sayca çox olması
- D) Adaların hər tərəfdən su ilə əhatə olunması

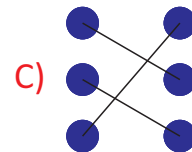
5. Uyğunluğu müəyyən edin.



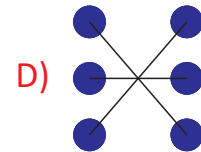
A)



B)



C)



D)

6. 4 okeanla əhatə olunmuş materik hansıdır?

- A) Avrasiya
- B) Cənubi Amerika
- C) Antarktida
- D) Şimali Amerika

Külək necə yaranır? Yağış damlasının səyahəti



1. Hansı şagirdin dediyi fikir **səhvdir**?

A) *Günəş yerin hər tərəfini
eyni dərəcədə qızdırır.*



B) *Su torpağa nisbətən gec
qızır, gec də soyuyur.*



C) *Küləyin faydalarından biri
də çiçəkləri tozlandırması-
dır.*



D) *Hava kütləsi nə qədər sürət-
lə hərəkət edirsə, külək o
qədər güclü olur.*



2. Yazda yağış yağdıqdan sonra hansı
hadisə baş verir?

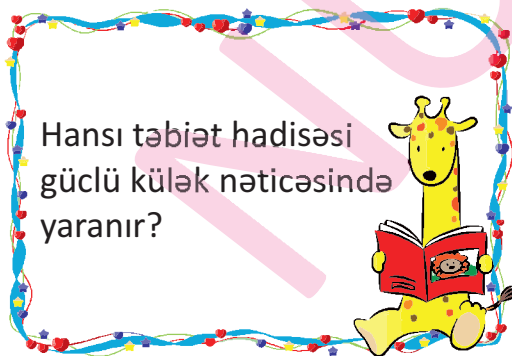
A) Göy qurşağı yaranır.

B) Hər tərəf ağ rəngə boyanır.

C) Bitkilər yanmağa başlayır.

D) Atmosferdə su buxarı çoxalır.

3.



A) sunami

B) fırtına

C) daşqın

D) sel

4.

Havanın necə olacağını qabaqcadan
xəbər verən elm necə adlanır?

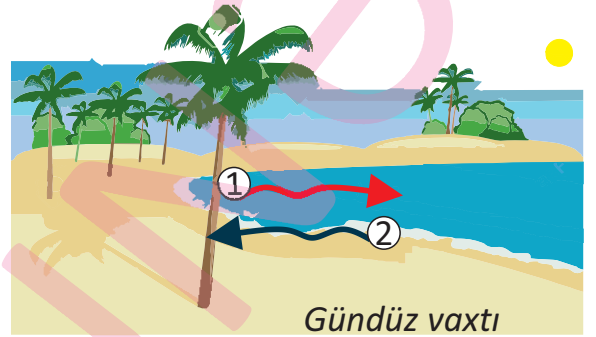
A) Ekvator

B) Meteorit

C) Meteorologiya

D) Atmosfer

5.



Verilmiş şəkllə əsasən oxlarla göstərilən
istiqamətlərdə hansı hava müşahidə olu-
nur?

A) 1- rütubətli

B) 1- rütubətli

2- soyuq

2- soyuq

C) 1- isti

D) 1- isti

2- şaxtalı

2- soyuq

6. Yağış damlası yerə hansı hallarda düşür?



1.



2.



3.

A) 1, 2

B) 2, 3

C) 1, 3

D) 1, 2, 3



Damla Nəşriyyatı

1. Hansı məlumat doğru **deyil**?

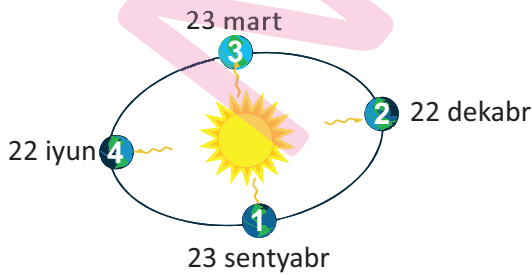
- A) Yerin Günəş ətrafında tam dövrü 365 gün 6 saatdır.
- B) Yer kürəsinin yuxarı hissəsinə cənub yarımkürəsi, aşağı hissəsinə şimal yarımkürəsi deyilir.
- C) Yerin Günəş ətrafında yoluna onun orbiti deyilir.
- D) Yerin orbiti dairəvi deyil, nisbətən oval formadadır.

2. Hansı məlumatlar payız fəslinə uyğundur?

- ★ Heyva, nar, feyxoa yetişir.
- Havalar isti keçir.
- ▲ Ağacların yarpaqları tökülür.
- Gündüzlər uzanır, gecələr isə qısalar.
- ◆ 23 sentyabrda başlayır.

- A) ★ ▲ ● B) ■ ● ◆
- C) ■ ● ◆ D) ★ ▲ ◆

3. Hansında tarix düzgün qeyd olunmayıb?



- A) 1 B) 2 C) 3 D) 4

4.

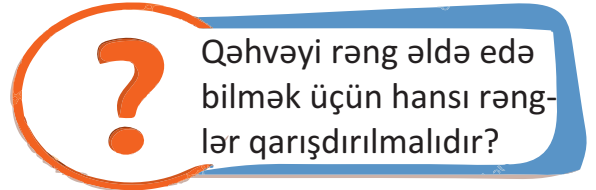


- A) göyqurşağı B) işığın spektri
- C) şüa D) çilçirəq

5. Yerin Günəş ətrafında hərəkəti nəyə səbəb olur?


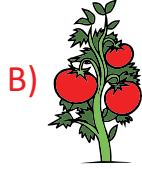
- A) günəşin hər gün çıxmasına
- B) zəlzələlərin baş verməsinə
- C) başımızın fırlanmasına
- D) fəsilələrin dəyişməsinə

6.



- A) [black cloud] [white cloud] B) [red cloud] [green cloud]
- C) [red cloud] [blue cloud] D) [yellow cloud] [green cloud]

1. Aşağıdakılardan hansı yabani bitkidir?



2. Uyğunluğu müəyyən edin.

1. Onurğasızlar

2. Onurğalılar

● həşəratlar

★ sürünənlər

▲ balıqlar

■ qurdlar

A) 1- ★, ■, 2- ●, ▲

B) 1- ▲, ★, 2- ●, ■


C) 1- ●, ■, 2- ▲, ★

D) 1- ▲, ■, 2- ●, ★


3. Aşağıdakılardan hansı amfibilərə nümunədir?



4. Aşağıdakılardan hansı sürünən heyvan deyil?



5. Hansı şəkil düzgün təsvir olunmayıb?



6.

- * Hər cür şəraitdə yaşamağa uyğunlaşmış canlılardır.
- * Mikroskopik növləri də var.
- * Əsasən rütubətli yerləri sevirilər.

Verilmiş məlumatlar hansı canlılar aləminə aiddir?

A) bakteriyalar

B) göbələklər

C) ali bitkilər

D) onurğasız heyvanlar


1. Şagird öz adının hərflərini əlifbadakı sıra nömrələri ilə əvəz edərək yazdı: 1,32,7,24



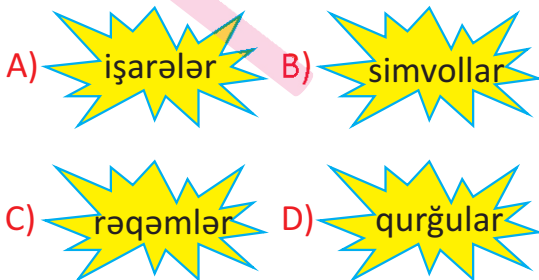
Bu şagirdin adı nədir?

- A) Anar B) Bəkir
C) Azər D) Zaur


2. Hansı rebus "Aytac" sözün kodlaşmasıdır?



3. Aşağıdakılardan hansı kod ola bilməz?



4.



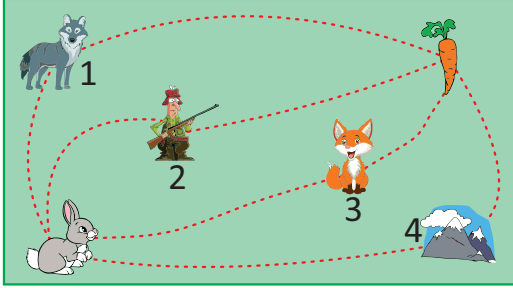
Mən adımlı lövhədəki şəkilləri çəkərək kodlaşdırdım. Sizcə mənim adım nədir?

- A) Gülnur B) Nargül
C) Günay D) Gülnar

5. Kodlaşdırma nədir?

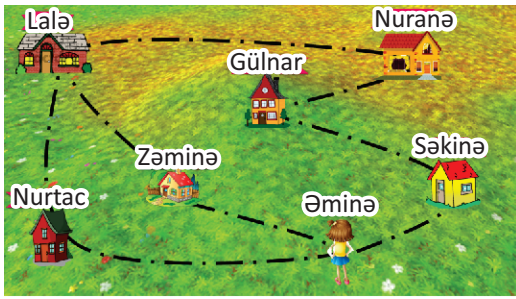
- A) İnformasiyanın kodlarla ifadə olunması
B) İnformasiyanın dekodlaşdırılması
C) İnformasiyanın emal olunması
D) Dekodlaşdırma prosesi

1. Dovşan yer kökünü yemək üçün hansı yol ilə getməlidir?



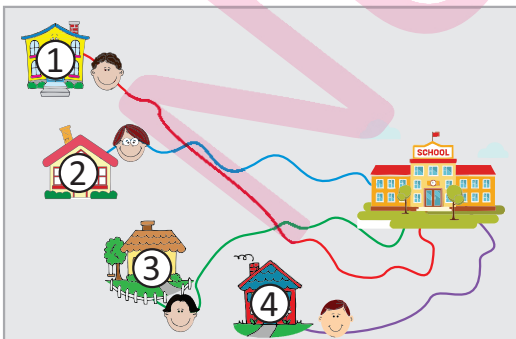
- A) 1 B) 2 C) 3 D) 4

2. Əminə Gülnargilə hansı sadə və qısa yolla gedə bilər?



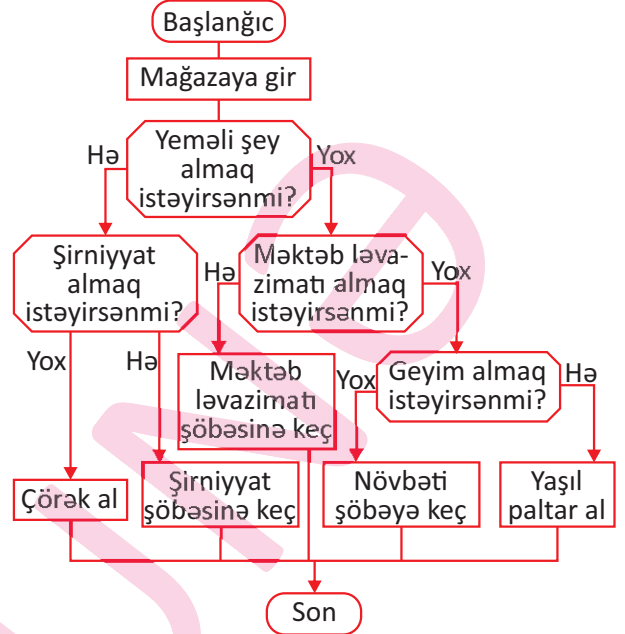
- A) Əminə → Gülnar
B) Səkinə → Gülnar
C) Zəminə → Lalə → Nuranə → Gülnar
D) Nurtac → Lalə → Nuranə → Gülnar

3. Evdən eyni vaxtda çıxan uşaqların məktəbə çatma ardıcılıqlarını müəyyən edin.



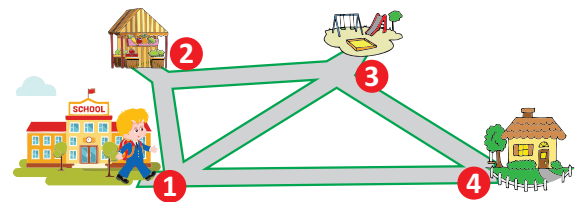
- A) 1, 2, 3, 4 B) 1, 3, 2, 4
C) 4, 3, 2, 1 D) 4, 2, 3, 1

4. Günel Yaşıl paltar almaq üçün neçə şərt bloku ilə rastlaşacaq?



- A) 1 B) 2
C) 3 D) 0

5. Seymur hansı yolla getməlidir ki, evə tez çatsın?







- A) 1 → 3 → 4
B) 1 → 4
C) 1 → 2 → 3 → 4
D) 1 → 2 → 4

1. Aşağıdakılardan hansı yaddaş qurğusudur?

- A)  B) 
C)  D) 

2. Aşağıdakılardan hansı giriş qurğusudur?

- A)  B) 
C)  D) 

3. Aşağıdakılardan hansı giriş qurğusudur?

- A)  B) 
C)  D) 

4.

Kompüterdə hansı əməliyyatı aparmaq mümkün deyil?



- A) informasiyanı emal etmək
B) şəkil yadda saxlamaq
C) qoxunu təyin etmək
D) hesablama aparmaq

5. Hansı variantda kompüterin qurğuları əks olunub?

- A) siçan, səs ucaldan, pişik, printer, optik disk
B) optik disk, sərt disk, skaner, RAM, siçan
C) siçan, mikrofon, kalkulyator, tozsoran, fləş-disk
D) monitor, klaviatura, televizor, mikrofon, veb-kamera