



FƏNLƏR TOPLUSU

**ONLAYN SINAQ
İMTAHANLARI**



Ödənişsiz və ödənişli

sınaq imtahanlarından istifadə
etmək üçün QR kodu oxudun.



QR code reader



**Əziz
dostum!**

Yaşadığımız dünya demək
olar ki, hər saniyə dəyişir. Elm
və texnologiya durmadan inkişaf
edir. Azərbaycanın dünyada güclü
dövlətlərdən biri olması üçün biz də
özümüzü inkişaf etdirməliyik.

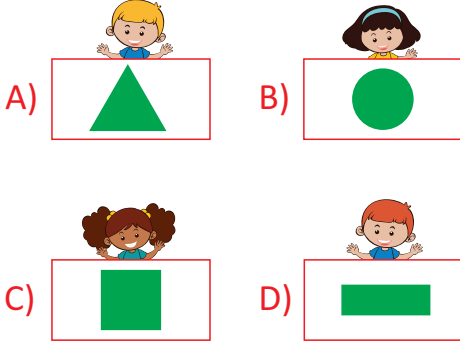
Bu gün sən şagirdsən. Əsas vəzifən
dərslərini yaxşı oxumaqdır. Unutma!
Sən dərslərini nə qədər yaxşı oxusan,
Azərbaycan bir o qədər güclü dövlət
olacaq. Çünki Azərbaycanın gələceyi
sizlərsiniz!

Kamil MƏMMƏDOV

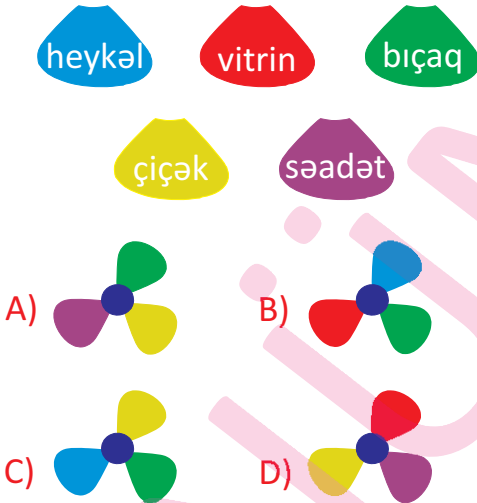
TESTLƏR
YENİ NƏŞR

Bakı - 2020

1. Hansı uşağın göstərdiyi həndəsi fiqurun adını tələffüz edərkən səs artımı baş verir?



2. Deyilişi ilə yazılışı fərqlənən sözlər olan ləçəkləri seçsək, hansı bəndəki çiçək alınar?



3. Hansı sözdə tələffüz zamanı samitlərdən biri düşür?



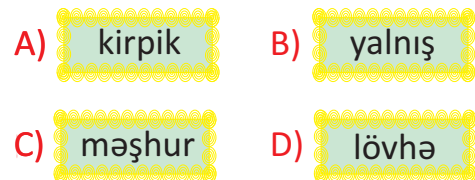
4.



5. Hansı cümlədə altından xətt çəkilmiş söz **səhv** yazılıb?

- A) Səttar hər gün dərsə gecikdiyi üçün töhmət alırdı.
B) Xəttatlar böyük səylə kitabların üzünü köçürürdülər.
C) Xəttkeşlərdən həndəsi fiqurların çəkilməsində istifadə olunur.
D) Fəttah ev tapşırıqlarını həvəslə hazırlayırdı.

6. Hansı sözdə yanaşı gələn samitlər düzgün yazılmamışdır?



1. *Sözün səs tərkibi haqqında danışarkən onun ... əsas götürülür.*



Boşluğa uyğun bəndi seçin.

- A) yazılışı B) hecaları
C) deyilişi D) cümlədə işlədilməsi

2. "Yarpaq" sözünün təhlilində yanlış fikir hansıdır?

- A) Yazılışı ilə deyilişi fərqlənir.
B) Ahəng qanunu gözlənilmişdir.
C) Sözdə 3 cingilti, 1 kar samit var.
D) Sözdə 6 səs, 6 hərf var.

3. "Səbirlə" sözünün fonetik təhlili ilə bağlı aşağıdakı fikirlərdən hansılar doğrudur?

- *Səs və hərf tərkibi bərabərdir.
*7 hərf, 8 səsdən ibarətdir.
*Sözdəki bütün samitlərin kar qarşılığı var.
*Ahəng qanununa tabedir.

- A) * * B) * *
C) * * D) * *

4. "Fonetika" nədən bəhs edir?

- A) Səslərdən və hərflərdən
B) Cümlə üzvlərindən
C) Nitq hissələrindən
D) Kök və şəkilçidən

5. "Təqaüd" sözünün fonetik təhlili ilə bağlı verilənlərdən hansı **səhvdir**?

- A) 6 hərf, 7 səsdən ibarətdir.
B) Ancaq kar samitlərdən ibarətdir.
C) Tərkibində 2 incə, 1 qalın sait var.
D) Ahəng qanununa tabe deyil.

6. Uyğunluğu müəyyən edin.

1. Səslərin sayı hərf- a) məsuliyyət
lərin sayından çoxdur.
2. Tərkibində 3 cin- b) müavinlər
gilti samit səs var.
3. Tərkibində 2 incə, c) kainat
1 qalın sait var.

- A)

1	2	3
a	b	c

 B)

1	2	3
c	a	b

C)

1	2	3
b	a	c

 D)

1	2	3
c	b	a

Amfibiyalara və ya suda-quruda yaşayanlara qurbağalar və tritonlar aiddir. Onların əksəriyyətinin çoxalma mərhələləri, inkişafı suda keçir. Amfibiyaqlar çaylarda, gölməçələrdə, arxlarda, bataqlıqlarda və rütubətli meşələrdə yaşayırlar. Onlar havadakı oksigeni və rütubəti dəriləri vasitəsilə canlarına çəkirlər. Bütün amfibiyaqlar yırtıcıdır. Onlar həşərat və başqa xırda heyvanları ovlayırlar.

1. Mətnə hansı sualın cavabı yoxdur?

- A) Amfibiyalara hansı heyvanlar aiddir?
- B) Amfibiyaqlar harada yaşayırlar?
- C) Amfibiyaqlar ovlarını necə tuturlar?
- D) Hansı amfibiyaqlar yırtıcıdır?

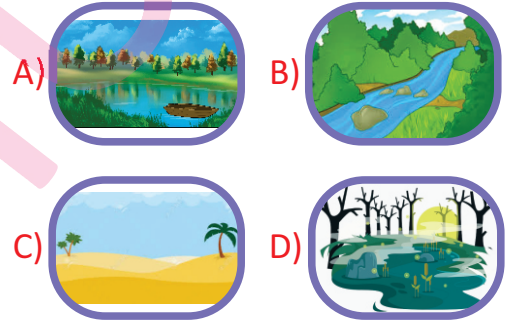
2. Hansı məlumat doğrudur?

- A) Amfibiyaqlardan yalnız triton yırtıcıdır.
- B) Amfibiyaqlar sudakı oksigeni qəlsəmələri vasitəsi ilə udurlar.
- C) Amfibiyaqlardan sadəcə qurbağa həm suda, həm quruda yaşaya bilər.
- D) Amfibiyaqların çoxalma mərhələsi və inkişafı əsasən suda keçir.

3. Amfibiya sözünün izahı aşağıdakılardan hansı ola bilər?

- A) balıq növü
- B) timsah
- C) su ilanı
- D) həm suda, həm də quruda yaşaya bilən canlı

4. Harada amfibiya növünə rast gəlmək mümkün deyil?



5. Cümləni tamamlayın.
"Verilmiş mətn"

- A) elmi məndir.
- B) bədii məndir.
- C) nəzmlə yazılıb.
- D) bitkilər haqqındadır.

Amfibiyalara və ya suda-quruda yaşayanlara qurbağalar və tritonlar aiddir. Onların əksəriyyətinin çoxalma mərhələləri, inkişafı suda keçir. Amfibiyaqlar çaylarda, gölməçələrdə, arxlarda, bataqlıqlarda və rütubətli meşələrdə yaşayırlar. Onlar havadakı oksigeni və rütubəti dəriləri vasitəsilə canlarına çəkirlər. Bütün amfibiyaqlar yırtıcıdır. Onlar həşərat və başqa xırda heyvanları ovlayırlar.

1. Mətnə hansı sualın cavabı yoxdur?

- A) Amfibiyalara hansı heyvanlar aiddir?
- B) Amfibiyaqlar harada yaşayırlar?
- C) Amfibiyaqlar ovlarını necə tuturlar?
- D) Hansı amfibiyaqlar yırtıcıdır?

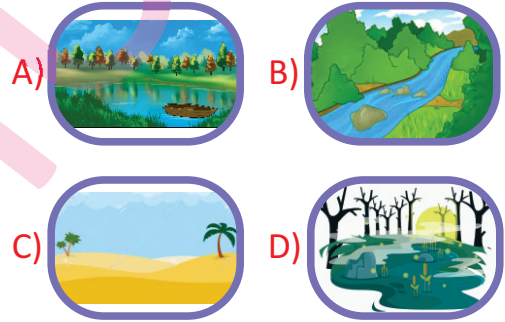
2. Hansı məlumat doğrudur?

- A) Amfibiyaqlardan yalnız triton yırtıcıdır.
- B) Amfibiyaqlar sudakı oksigeni qəlsəmələri vasitəsi ilə udurlar.
- C) Amfibiyaqlardan sadəcə qurbağa həm suda, həm quruda yaşaya bilər.
- D) Amfibiyaqların çoxalma mərhələsi və inkişafı əsasən suda keçir.

3. Amfibiya sözünün izahı aşağıdakılardan hansı ola bilər?

- A) balıq növü
- B) timsah
- C) su ilanı
- D) həm suda, həm də quruda yaşaya bilən canlı

4. Harada amfibiya növünə rast gəlmək mümkün deyil?



5. Cümləni tamamlayın.
"Verilmiş mətn"

- A) elmi məndir.
- B) bədii məndir.
- C) nəzmlə yazılıb.
- D) bitkilər haqqındadır.

1. Gəncə şəhərinin əhali sayını göstərən ədədin oxunuşu aşağıdakılardan hansıdır?



- A) üç min otuz iki yüz altmış
B) otuz iki min altı yüz
C) üç yüz otuz iki min altı yüz
D) üç yüz otuz iki min altmış

2. Zəhranın lövhəyə yazdığı müqayisədə ★ yerinə yazılacaq ən böyük və ən kiçik ədəd aşağıdakılardan hansıdır?




- A) 23 475 və 23 326
B) 23 477 və 23 326
C) 23 476 və 23 328
D) 23 475 və 23 328

3.



Minliklər sinfi 352,
təklilər sinfi 253
olan ədəd hansıdır?



- A) 253352
B) 532352
C) 352352
D) 352253

4. Cədvəldə planetlərin diametrləri göstərilmişdir. Bu cədvəldə diametrinin ölçüsünə görə ən böyük ikinci planet hansıdır?

Planet	Diametr
Venera	12104 km
Yupiter	142984 km
Mars	6804 km
Yer	12756 km

- A) Yupiter
B) Venera
C) Mars
D) Yer

5. Uyğunluğu müəyyən edin.

1. Ən böyük beş rəqəmli ədəd
2. Ən kiçik beş rəqəmli tək ədəd
3. Ən böyük beş rəqəmli cüt ədəddən 5 vahid kiçik olan ədəd
4. Rəqəmləri müxtəlif olan ən böyük beş rəqəmli ədəd

- a. 10001
b. 98765
c. 99999
d. 99993

- A) 1-c,2-a,3-d,4-b
B) 1-a,2-c,3-b,4-d
C) 1-a,2-b,3-c,4-d
D) 1-b,2-c,3-d,4-a

6. Nöqtələrin yerinə hansı rəqəm olmalıdır?

$$93745 = 90000 + \dots + 700 + 40 + 5$$

- A) 30000
B) 3000
C) 300
D) 3000000

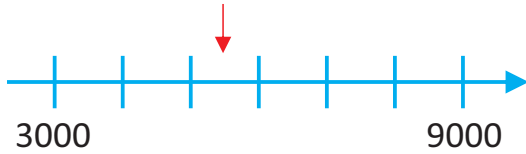
1.

6,2,1,3,7 rəqəmlərindən
amələ gələn ən böyük
ədədlə ən kiçik ədədin
fərqi tapın.



- A) 52254 B) 63954
C) 50850 D) 60493

2.



Aşağıdakı misallardan hansının
nəticəsi ədəd oxunda göstərilmiş
yerə uyğun gəlir?

- A) 4567-3222+3655
B) 1200+4800-1000
C) 4832+1168-500
D) 6327-327-600

3.

5,7,0,9 rəqəmlərindən 1 dəfə isti-
fadə etməklə yazılan dörd rəqəmli
ən böyük və ən kiçik ədədlərin fər-
qi neçədir?

- A) 4041 B) 3950
C) 4671 D) 4491

4.

A-nın qiymətini tapın.

$$\begin{array}{r} 20519 \\ - 13265 \\ \hline \end{array}$$

- A) 7254 B) 1400
C) 1785 D) 6300

5.

Ermənilərin azğın quldur dəstəsi
1918-ci ildə Quba qəzasında yerli
əhaliyə qarşı soyqırım törətmişdir.
2007-ci ildə ərazidə qazıntı zamanı
kütləvi məzarlıq aşkar edilmişdir.
Məzarlıq neçə ildən sonra aşkar
edilmişdir?


- A) 98 ildən sonra
B) 85 ildən sonra
C) 89 ildən sonra
D) 58 ildən sonra

6.



7816 ədədinin yarısı ilə 29 və 12
ədədinin hasilinin fərqi tapın.


- A) 3650 B) 3550
C) 3560 D) 3500


7. Şəkildəki siçanların ümumi sayını göstərən ifadə hansıdır?






- A) $5 \times 8 = 40$; $2 \times 40 = 80$
 B) $8 \times 8 = 64$; $5 \times 64 = 320$
 C) $3 \times 8 = 24$; $8 \times 24 = 192$
 D) $4 \times 2 = 8$; $8 \times 15 = 120$

8. Verilənlərə əsasən  \times  hasilini hesablayın.

$4 \cdot x = 32$
 $15 \cdot x =$ 

$7 \cdot y = 56$
 $24 : y =$ 

- A) 40
 B) 360
 C) 120
 D) 280

9.  \times   hasilı ümumi ifadənin hasilindən nə qədər kiçikdir?

$$\begin{array}{r} \times \quad 305 \\ \hline \text{CD} 25 \end{array}$$

- A) 1600
 B) 1450
 C) 1235
 D) 1525

10. Hansı bənddə vurmanın qruplaşdırma qanunu düzgün tətbiq edilib?

A) $3 \cdot 4 \cdot 5 = 5 \cdot 4 \cdot 5$

B) $3 \cdot 4 \cdot 5 = 3 \cdot (4 \cdot 5)$

C) $3 \cdot 4 \cdot 5 = (3 + 4) \cdot 5$

D) $3 \cdot 4 \cdot 5 = 3 \cdot (5 - 4)$

11. İfadələri vurmanın paylama xassəsini tətbiq etməklə hesablayın.

1. $15 \times 7 =$

2. $6 \times 48 =$


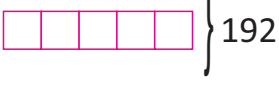
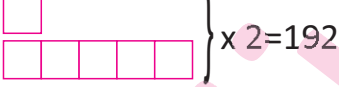

12. Ən böyük ikirəqəmli cüt ədədin 7 qatını əlverişli üsulla tapın.

Həlli:

1. $\triangle : 8 = 56$ əməlinə \triangle yerinə yazılacaq ədədi tapmaq üçün aşağıdakı əməllərdən hansı edilməlidir?

- A) $56 - 8$ B) $56 : 8$
C) 56×8 D) 7×8

2. Biri digərindən 5 dəfə böyük olan 2 ədədin cəmi 192-yə bərabərdir. Bu ədədləri tapmaq üçün tam-hissə modelini necə qurmalıyıq?

- A)  } 192
B)  } 192
C)  } $\times 2 = 192$
D)  } 192

3. $C \xrightarrow{:3} B \xrightarrow{-564} A \xrightarrow{:3} 640$

Verilmiş sxemə əsasən $(C-B) : 3 + A$ ifadəsinin qiymətinin minlik mərtəbə vahidi neçədir?

- A) 3576 B) 6
C) 3 D) 3000

4. Aydın 42 səbət, Eyyub isə ondan 6 dəfə az göbələk yığdı. Hər səbət 3 kiloqram tutduğuna görə oğlanlar cəmi nə qədər göbələk yığdılar?



- A) 144 kq B) 108 kq
C) 147 kq D) 105 kq

5. Kompüterin qiyməti telefonun qiymətindən 3 dəfə bahadır. Kompüterin qiyməti 1035 manatdırsa, telefon neçəyədir?

- A) 267 manat B) 345 manat
C) 405 manat D) 497 manat

6. Biri digərindən 5 dəfə ucuz olan 2 köynəyin birlikdə qiyməti 210 manatdır. Baha olan köynək neçəyədir?



- A) 175 manat B) 35 manat
C) 90 manat D) 105 manat

1. ★ = 3 ■ = 0 ▲ = 6
● = 2 ◆ = 7

Verilənlərə əsasən hesablayın.

$$\begin{array}{r} \text{◆} \text{▲} \text{■} \text{★} \\ \times \quad \text{●} \\ \hline \end{array}$$

- A) 20308 B) 72219
C) 15206 D) 52106

2. Hansı bölmə əməlinə bölünəni əlverişli toplananlara ayırmaqla qiyməti daha tez tapmaq olar?

- A) $\begin{array}{r} 7290 \overline{) 6} \\ \hline \end{array}$ B) $\begin{array}{r} 1860 \overline{) 6} \\ \hline \end{array}$
C) $\begin{array}{r} 2748 \overline{) 6} \\ \hline \end{array}$ D) $\begin{array}{r} 1944 \overline{) 6} \\ \hline \end{array}$

3. Sual işarəsinin yerində neçə olmalıdır?

$$2153 \rightarrow \times 4 \rightarrow -5552 \rightarrow : 3 \rightarrow ?$$

- A) 2461 B) 3056
C) 1020 D) 4317

4. Vurma əməllərindən hansı düzgün yerinə yetirilməmişdir?

A)	$\begin{array}{r} 1290 \cdot 4 \\ 1000 \quad 4000 \\ 200 \quad 800 \\ 90 \quad 360 \\ 0 \quad 0 \\ \hline 5160 \end{array}$	B)	$\begin{array}{r} 4312 \cdot 2 \\ 4000 \quad 8000 \\ 300 \quad 600 \\ 10 \quad 20 \\ 2 \quad 4 \\ \hline 8624 \end{array}$
----	---	----	--

C)	$\begin{array}{r} 3102 \cdot 3 \\ 3000 \quad 9000 \\ 100 \quad 300 \\ 2 \quad 6 \\ 0 \quad 0 \\ \hline 9360 \end{array}$	D)	$\begin{array}{r} 2237 \cdot 5 \\ 2000 \quad 10000 \\ 200 \quad 1000 \\ 30 \quad 150 \\ 7 \quad 35 \\ \hline 11185 \end{array}$
----	--	----	---

5. Verilən müqayisədə ★ yerinə yazılacaq ən böyük ədəd neçədir?

$$12471:3 > \star$$

- A) 4156 B) 4652
C) 4114 D) 4175

6. Verilmiş bölmə əməlinə qismətə yazılacaq ədədin mərtəbə vahidlərinin hasili neçədir?

$$\begin{array}{r} 6573 \overline{) 3} \\ \hline \end{array}$$

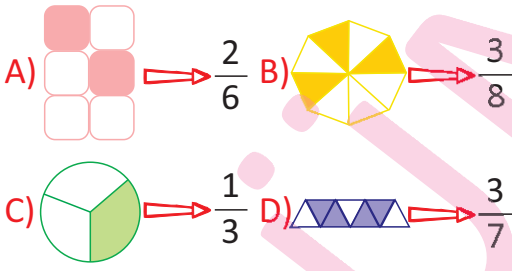
- A) 9 B) 27
C) 18 D) 36

1. Fiqurların rənglənmiş hissələrinə görə müqayisələrdən hansılar doğrudur?



- A) 1; 3 B) 1; 2
C) 3; 4 D) 2; 4

2. Aşağıdakı fiqurlardan hansında rəngli hissə kəsrlə düzgün göstərilməmişdir.



3. $\frac{34}{36} < \frac{x}{36} < \frac{37}{36}$

Yuxardakı müqayisədə x-in yerinə yazılması mümkün olan ədədlərin cəmi neçə olar?

- A) 61 B) 71
C) 81 D) 91

4. Rənglənmiş kvadratların sayına görə hansı kəsrlər düzgün ardıcılıqla yazılıb?




- A) $\frac{5}{8}; \frac{6}{8}; \frac{4}{8}$ B) $\frac{3}{8}; \frac{4}{8}; \frac{2}{8}$
C) $\frac{4}{8}; \frac{2}{8}; \frac{3}{8}$ D) $\frac{3}{8}; \frac{2}{8}; \frac{4}{8}$

5. OK parçası üzərində göstərilmiş A, B, C, D nöqtələri haqqında deyilənlərdən hansı doğrudur?



- A) C nöqtəsi parçanın $\frac{6}{9}$ hissəsini göstərir.
B) A nöqtəsinin göstərdiyi hissə B nöqtəsinin göstərdiyi hissədən böyükdür.
C) D nöqtəsi parçanın $\frac{7}{8}$ hissəsini göstərir.
D) C nöqtəsinin göstərdiyi hissə B nöqtəsinin göstərdiyi hissədən kiçikdir.

6. Hansı kəsr rənglənmiş sahələri ifadə **etmir**?




- A) $\frac{6}{16}$ B) $\frac{4}{16}$
C) $\frac{9}{16}$ D) $\frac{5}{16}$

1. Boşluğa uyğun bəndi seçin.
"___ two bags on the desk."




- A) There is B) There are
C) They D) There isn't

2. Şəkli təsvir edin.



- A) They are animals.
B) It isn't a forest.
C) They are not trees.
D) There are many trees in the forest.

3. Nöqtələrin yerinə uyğun gələn bəndi seçin.



- A) This is an orange.
B) There is five oranges.
C) It is an orange.
D) There are five oranges.

4. Verilmiş cümləni tərcümə edin.



There are many cities in England.

- A) İngiltərədə az şəhər var.
B) İngiltərəyə çoxlu turistlər səfər edir.
C) İngiltərə böyük ölkədir.
D) İngiltərədə çoxlu şəhərlər var.

5. Qarşılaşdırmalardan hansı yanlıştır?

- A) There are two horses in the yard →



- B) There are three turtles in the water. →



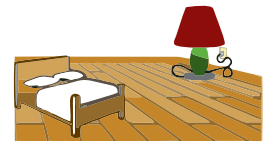
- C) There are five cats in the basket. →



- D) There are six tigers in the forest. →



6. Düzgün bəndi seçin.



- A) There are two beds in the room.
B) There is a lamp in the room.
C) There are three pictures in the room.
D) There is a table in the room.

7. Şəklə uyğun gələn ifadəni göstərin.

- A) a hot drink
- B) sweets
- C) potato chips
- D) tissue




8.

Hansı qarşılaşdırma yanlışdır?

- A) a pen – pens
- B) a man – men
- C) a sheep – sheeps
- D) a monkey – monkeys



9. Şəklə uyğun bəndi seçin.



- A) four mouse
- B) three mice
- C) two mice
- D) three mouse

10. Şəklə uyğun bəndi seçin.

He has got two ...
and two ...



- A) noses, ears
- B) head, arms
- C) ears, eyes
- D) fingers, legs

11. Verilmiş sözləri cəmləndirin.

- 1. forest → _____
- 2. fish → _____
- 3. goose → _____
- 4. woman → _____
- 5. story → _____
- 6. wolf → _____

12. Verilmiş sözləri təkə çevirin.

- 1. scarves → _____
- 2. teeth → _____
- 3. butterflies → _____
- 4. floors → _____
- 5. dates → _____
- 6. wives → _____

1. Şəklə əsasən verilmiş dialoqda boş buraxılan yerə uyğun bəndi seçin.



Amin: Where are the trees?

Eli: They are ____ the house.

- A) on B) in
C) under D) near

2. This is my uncle.
He has got a house in the ...



- A) schoolyard B) village
C) classroom D) city

3. Tərcümə edin.

Qara yastıqlar divanın üstündədir.


- A) The black pillow is on the sofa.
B) The black pillows is on the sofa.
C) The black pillow is on the arm-chair.
D) The black pillows are on the sofa.

4. Verilmiş şəklə əsasən sualı cavablandırın.



- A) The children are in the classroom.
B) The children are in the canteen.
C) The children are in the schoolyard.
D) The children are in the gym.

5. Şəklə əsasən uyğun bəndi seçin.



- A) lion, in B) rabbit, on
C) frog, under D) goat, in front of


6. Şəklə əsasən uyğun bəndi seçin.

Where are they?



- A) At the cookie shop
B) At the doctor's
C) At the school canteen
D) At the zoo

7. Can you tell me the time please ?



- A) It is a quarter past eleven.
- B) It is a quarter to nine.
- C) It is a quarter past ten.
- D) It is a quarter to eleven.

8. Şəklə uyğun cümləni seçin.



- A) The boy has breakfast at 10 o'clock.
- B) The boy has lunch at 10 o'clock.
- C) The boy gets up at 9 o'clock.
- D) The boy goes to bed at 10 o'clock.

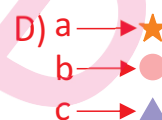
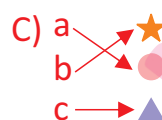
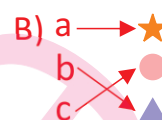
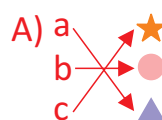
9. Can she get up early?

- A) No, she can't.
- B) No, she can.
- C) Yes, she can.
- D) Yes, she can't.



10. Uyğunluğu müəyyən edin.

- a. 1.00 ★ It is twenty past five.
- b. 5.20 ● It is one o'clock.
- c. 7.30 ▲ It is half past seven.



11. Tərcümə edin.

Saat 5-ə 10 dəqiqə qalıb.

Saat 4-ə 10 dəqiqə işləyib.

12. Cümlələri əqrəblərlə ifadə edin.


It is half past seven. →



It is a quarter to two. →



1. Yay tətilində dəniz kənarında günəşlənən Rauf hansı vitamini qəbul edib?



- A) **E** B) **A** C) **C** D) **D**

2. Məlumatlardan hansı doğrudur?

- A) Gün ərzində nə qədər çox günəş şüası altında dayansa, o qədər çox D vitamini qəbul edərək.
- B) Günün qızmar saatlarında dəri daha çox D vitamini qəbul edir.
- C) Dərinin günəşdən qaralması bədəninizdə D vitaminin yarandığını göstərir.
- D) Dərinin günəşdən qaralması insanda ömürlük D vitaminin yarandığını göstərir.

- 3.
1. Yeni biliklər əldə etməyə çalışmaq
 2. İşləyib evə pul gətirmək
 3. Yalnız oyun oynamaq
 4. Yoldaşlarının yerinə tapşırığı həll etmək
 5. Dərsdə fəal olmaq



Verilmiş məlumatlardan hansılar şagirdin vəzifələrindəndir?

- A) 1, 3 B) 2, 4
C) 4, 5 D) 1, 5

4. Hansı hərəkəti etmək səhvdir?



- A) Dərs vaxtı yalnız susmaq
- B) Avtomobil ilə hərəkət zamanı oturmaq
- C) Axşam yatmadan əvvəl dişlərimizi fırçalamaq
- D) Böyüklər danışanda susmaq

5. Hansı hərəkət məktəbliyə aid xüsusiyyət deyil?

- A) Nizam-intizamlı olmaq
- B) Soyuqqanlı olmaq
- C) Çalışqan olmaq
- D) Diqqətli olmaq

6. Ardıcılığı tamamlayın.

Uşaq bağçası → ? → Universitet

- A) Məktəb koridoru
- B) Sınıf otağı
- C) Müəllim
- D) Orta məktəb

1. Aşağıdakılardan hansı döş boşluğu orqanıdır?


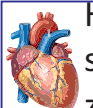


- A) Ağciyərlər
B) Qaraciyər
C) Mədə
D) Böyrəklər

2. Onurğa sütununu qorumaq üçün hansı hərəkətləri etmək lazımdır?

1. Ağır yük götürdükdə dizləri bükmək lazımdır.
2. Bel, çiyin və başın arxasında yorğunluq hiss etdikdə yüngül idman hərəkətləri etmək lazımdır.
3. Masa arxasında əyləşərkən bədəni boş buraxıb rahat oturmaq lazımdır.
4. Uzun müddət ayaq üstə qalmalı olduqda bədənin və ayaqların vəziyyətini dəyişmək lazımdır.

- A) 1, 3 B) 2, 4 C) 1, 4 D) 2, 3

3. Hansı orqanın funksiyası düzgün qeyd olunub?

- A)  Tənəffüs orqanıdır. Burada qan karbon qazından təmizlənib oksigenlə zənginləşir.
B)  Həzm, qan dövranı və s. proseslərdə iştirak edir. Orqanizmi zəhərli maddələrdən təmizləyir.
C)  Qanı damarlara vurur və bədənə də dövranını təmin edir.
D)  Sidik cövhərini, müxtəlif duzları, zəhərli maddələri, artıq suyu və s. orqanizmdən kənar edir.

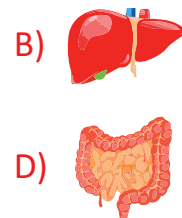
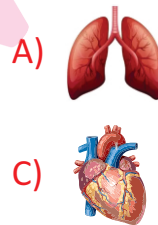
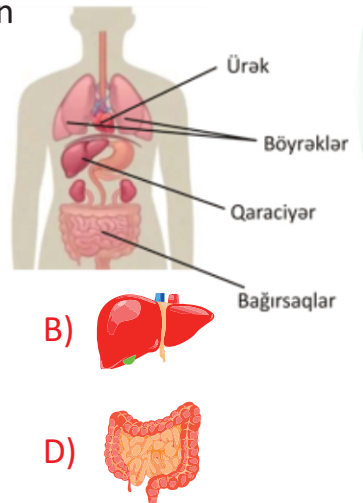
4. Uyğunluğu müəyyən edin.

1. Kəllə 2. Gövdə 3. Ətraflar

- a) üz b) yuxarı ətraflar
c) qabırğalar d) aşağı ətraflar
e) beyin f) döş sümüyü
g) onurğa sütunu

- A) 1- a, c; 2- b, c, f; 3- d, g
B) 1- a, b; 2- c, f; 3- d, e, g
C) 1- a, e; 2- c, f, g; 3- b, d
D) 1- a, g c; 2- b, c, f; 3- d, e

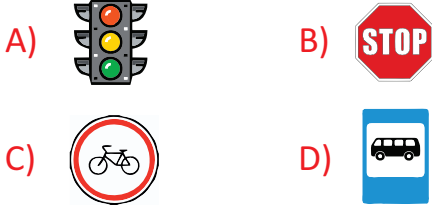
5. Daxili orqanlardan hansının adı səhv qeyd olunub?




6. Skelet haqqında verilmiş məlumatlardan hansı səhvdir?

- A) Orqanizm üçün dayaq rolunu oynayır.
B) "Sağlamlıq oxu" adlandırılır.
C) Kəllə, ətraflar və gövdə hissələrindən ibarətdir.
D) Daxili orqanları kənar təsirlərdən qoruyur.

1. Piyada yolu keçərkən hansına diqqət etməlidir?



2. Elvin mənzilə daxil olduqda qaz iyi hiss etdi. O, dərhal pəncərələri açdı və telefonla ... nömrəsini yığıb qəza xidmətinə xəbər etdi.



3. Hansı hərəkət elektrik vurmasına səbəb ola bilər?

- A) Elektrik cihazını naqildən tutub aparmaq
- B) Həddində artıq qızan elektrik cihazını elektrik xəttindən ayırmaq
- C) Yaş əllə elektrik düyməsinə toxunmaq
- D) Cihazı şəbəkədən ayırarkən naqildən tutub çəkmək

4. Aşağıdakılardan hansı təhlükə bildirən nişanlardan deyil?







5. ① Səki ilə getməliyik.
② Yol nişanları olmayan yerlərdə iki hərəkət istiqaməti olan yolu keçərkən yalnız sağa baxmalıyıq.
③ Yeraltı və yerüstü keçidlər olan yerlərdə mütləq onlardan istifadə etməliyik.
④ Yolu qaçaraq keçmək və yol kənarında oynamaq olmaz.

Qaydalardan hansı doğru deyil?

- A) 1 B) 2 C) 3 D) 4

6. Hansı uşağın dediyi **yanlıştır**?

- A)  Yeraltı və yerüstü keçidlər olan yerlərdə mütləq onlardan istifadə etməliyik.
- B)  Avtomobilin pəncərəsindən başını və qolunu çıxarmaq çox təhlükəlidir.
- C)  İşıqforun rənglərinin bizə nə demək istədiyini əzbər bilməliyik.
- D)  Əgər tələsiriksə, yolu qaçaraq keçə bilərik.





6. "Texnologiya" sözünün mənası nədir?

- A) Uсталıq haqqında elm
- B) İnformasiya haqqında elm
- C) İnformasiya texnologiyası
- D) Kompüter texnologiyası

7. Aşağıdakılardan hansı informasiya texnologiyası deyil?





- A) Kitab yazmaq
- B) Kompüterdə yazı yazmaq
- C) Tərəzidə kütlənin ölçülməsi
- D) Torpağın şumlanması

8. Hansı informasiya texnologiyası deyil?

- A) 
- B) 
- C) 
- D) 





9. Məlumat əldə etmək üçün hansı texnologiyadan istifadə etmək olmaz?



- A) 
- B) 
- C) 
- D) 

10. Hansı texnologiya daha öncə yaranmışdır?



- A) 
- B) 
- C) 
- D) 

6. Hansı “Musiqi alətləri” qrupunun alt qrupu deyil?

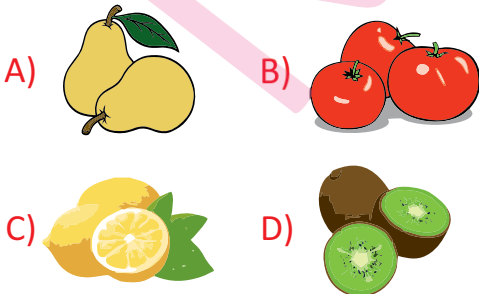
- A) nəfəs alətləri
- B) zərb alətləri
- C) simli alətlər
- D) mexaniki alətlər

7. Şagirdlər 4 fəndən qiymətləndirilmişlər. “5 alanlar” altqrupunu yaratsaq, hansı şagirdlər bu qrupa daxil olar?


Fənlər Şagirdlər	Ana dili	Riyaziyyat	İnformatika	İngilis dili
Tural	5	4	5	4
Günel	5	5	5	5
Günay	5	5	4	5
Fuad	5	5	5	5
Xanbaba	5	5	5	4
Pərviz	5	5	5	5

- A) Günel, Fuad, Xanbaba
- B) Günel, Fuad, Pərviz
- C) Tural, Günay, Xanbaba
- D) Tural, Fuad, Xanbaba

8. Hansı “Meyvələr” qrupuna daxil deyil?

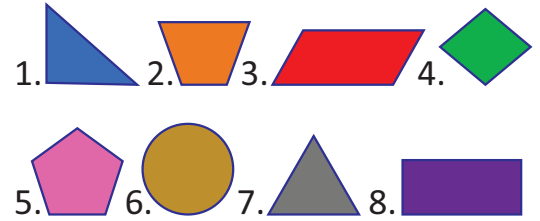


9. Aşağıdakı “Quşlar” qrupundan “Uçanlar” altqrupuna aid olan quşları seçin.



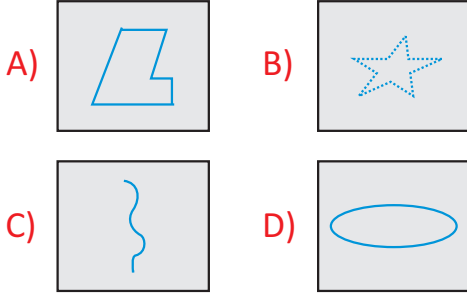
- A) 2, 4, 6
- B) 1, 3, 5
- C) 1, 3, 6
- D) 2, 4, 5

10. “Çoxbucaqlılar” qrupundan “Dördbucaqlılar” altqrupuna aid olan fiqurları seçin.

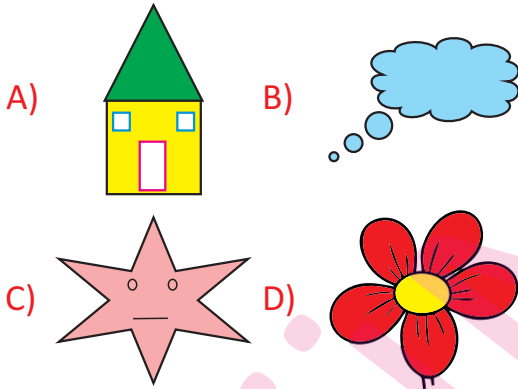


- A) 1, 5, 6, 7
- B) 1, 2, 4, 8
- C) 2, 3, 4, 8
- D) 3, 5, 6, 7

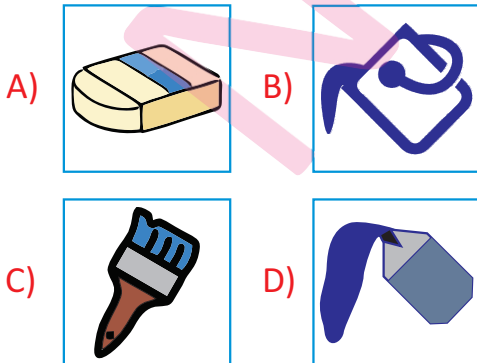
1. Paint qrafik redaktorunda əyri xətt çəkmək üçün hansı komandadan istifadə olunur?




2. Paint qrafik redaktorunda çəkilmiş şəkillərdən hansında əyri xətdən istifadə olunur?



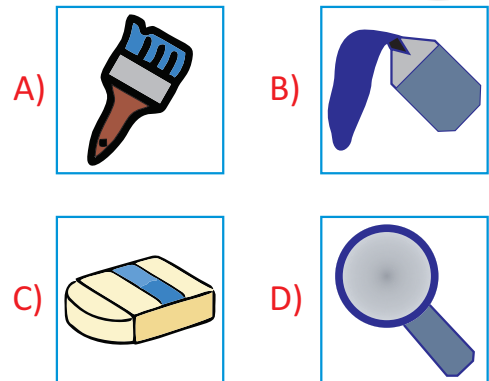
3. Paint qrafik redaktorunda göstərilmiş alətlərdən hansı hava fırçasıdır?



4. Paint qrafik redaktorunda çəkilmiş şəkillərdən hansında əyri xətdən istifadə olunmayıb?



5. Paint qrafik redaktorunda göstərilmiş alətlərdən hansı pozandır?



1. Mətni Azərbaycan əlifbası ilə yığmaq üçün hansı indikatoru seçmək lazımdır?

- A) EN B) RU
C) AZ D) TR

2. Mətn redaktorunun iş sahəsində yanib-sönən şaquli xətt nə adlanır?

- A) kursiv B) kursor
C) göstərici D) simvol

3. Mətni təşkil edən durğu işarələri, rəqəmlər, hərflər necə adlanır?

- A) kursiv B) kursor
C) göstərici D) simvol

4.

Kompüterdə yazı yazmaq üçün hansı qurğudan istifadə edilir?



5.

Aşağıdakılardan hansı mətn redaktorudur?

